

**1ª  
SÉRIE**

# **CANAL SEDUC-PI1**



PROFESSOR (A):

**ADRIANO  
RAMALHO**



DISCIPLINA:

**GEOGRAFIA**



CONTEÚDO:

**REVISÃO**



TEMA GERADOR:

**PAZ NA  
ESCOLA**



DATA:

**23.04.2019**

01- Graças aos avanços da medicina e da ciência, a população da Europa está cada vez mais velha. Isso ocorre em função de quais fatores?

Resp: Declínio da taxa de natalidade e aumento da longevidade ocasionados por políticas públicas direcionadas a melhor qualidade de vida.

02- Foram entregues a um grupo de alunos de uma Faculdade

cinco mapas temáticos, em projeção cilíndrica, para servirem como material de apoio didático a um estudo populacional e socioambiental de uma determinada região brasileira.

Assinale a escala do mapa que apresenta condições de fornecer uma maior riqueza de detalhes.

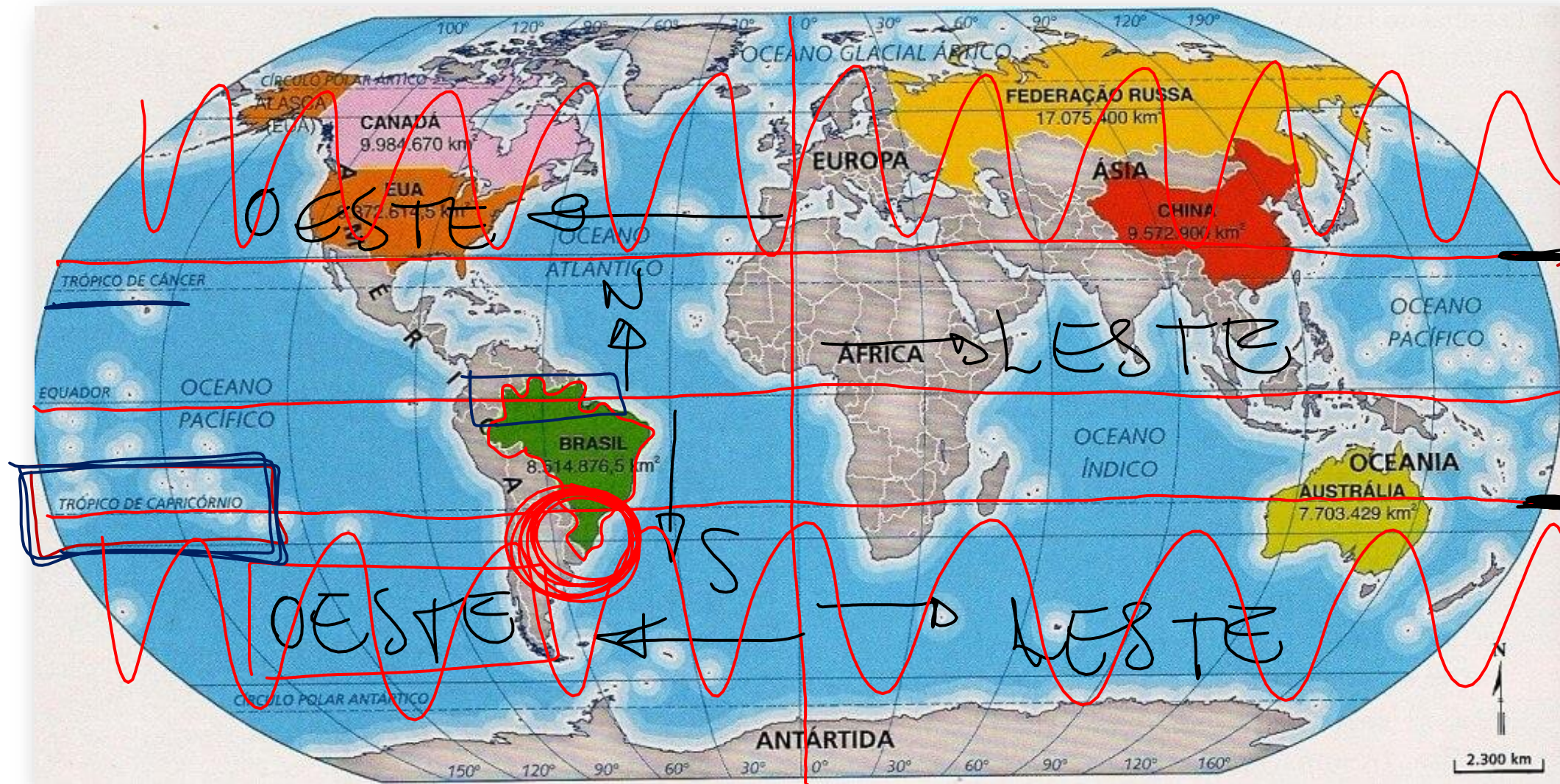
- ~~a) 1: 10.000~~
- ~~b) 1: 15.000~~
- ~~c) 1: 60.000~~
- ~~d) 1: 50.000~~
- ~~e) 1: 70.000.~~

10.000 X

### 03- Considere as afirmações sobre a localização do Brasil no mapa mundi.

- I) O Brasil situa-se a oeste do Meridiano de Greenwich. (✓)
- II) O Brasil é cortado ao norte pela Linha do Equador. (✓)
- III) Ao sul, é cortado pelo Trópico de Câncer. (F)
- IV) Ao sul, é cortado pelo Trópico de Capricórnio, apresentando 92% do seu território na Zona Intertropical, entre os Trópicos de Câncer e de Capricórnio. (✓)
- V) Os 8% restantes estão na Zona Temperada do Sul. (✓)





H2+0240041081

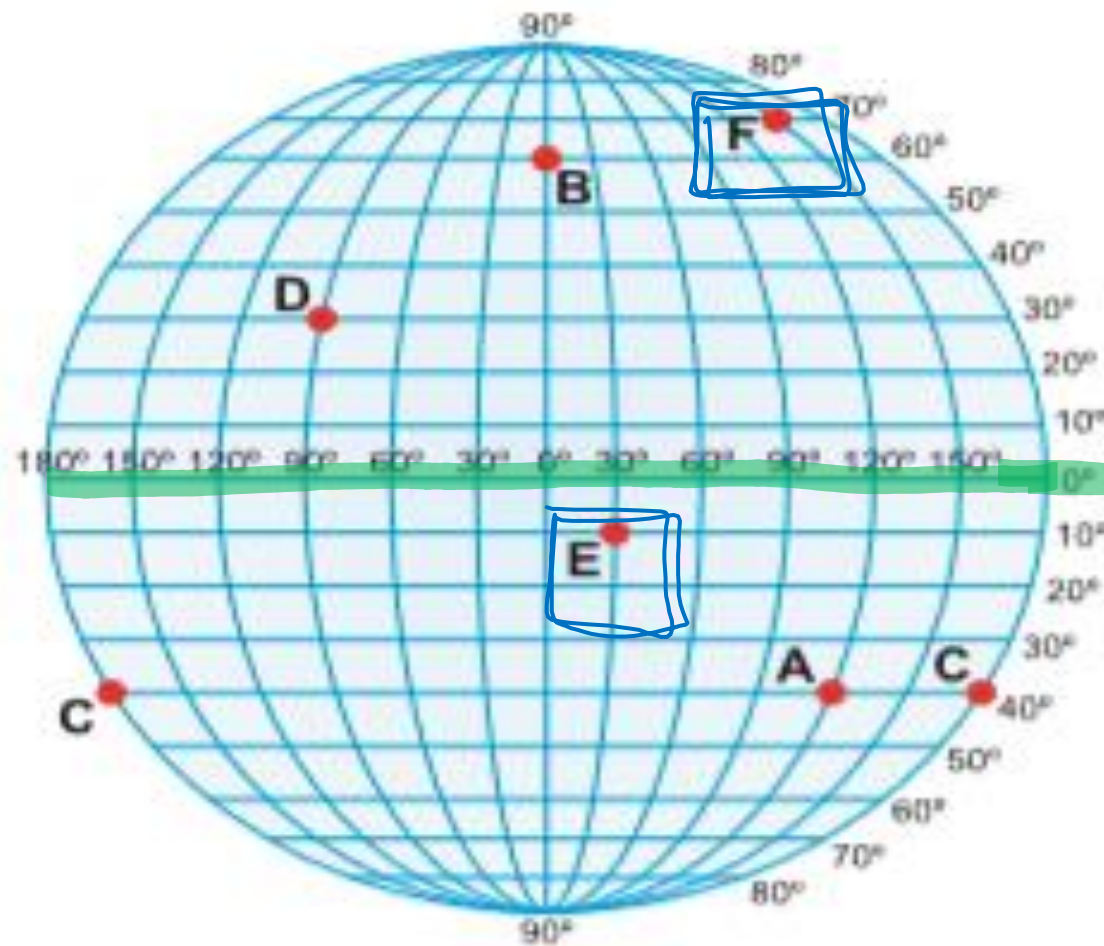


## 04- Qual conceito atual de espaço geográfico?

É o resultado da interação mediada pelas técnicas entre as práticas humanas e suas sociedades com a superfície terrestre e seus elementos.

05- Qual dos pontos apresenta menor latitude e maior latitude no planisfério abaixo?

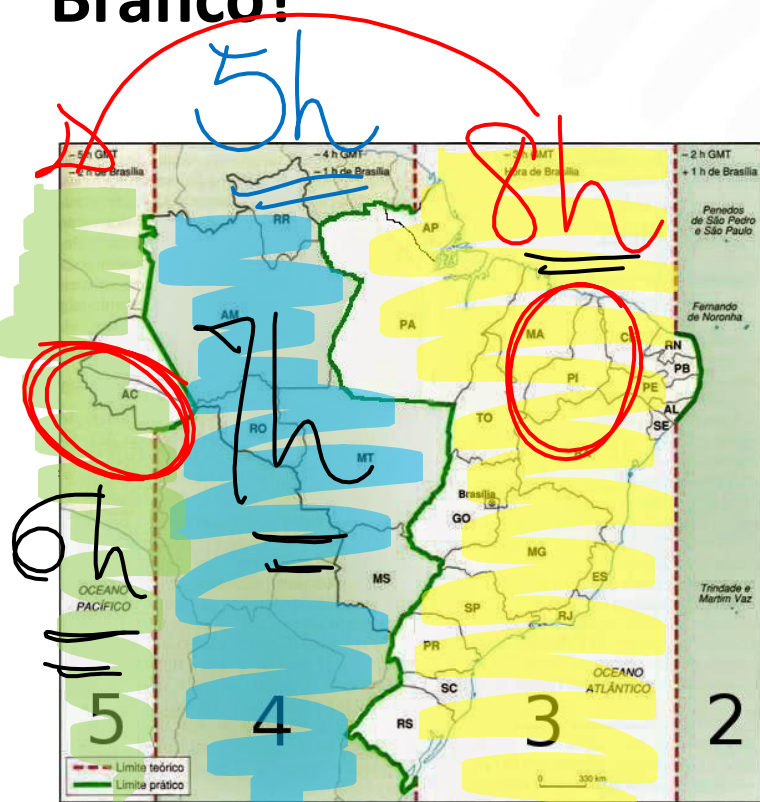
MEHOR = E  
MAIOR = F



N  
S

06- Um avião sai de **TERESINA** às 8h com destino ao **ACRE**.

A viagem tem duração de 5 horas. Qual o horário de sua chegada a Rio Branco?



PARA LESTE = HORAS +

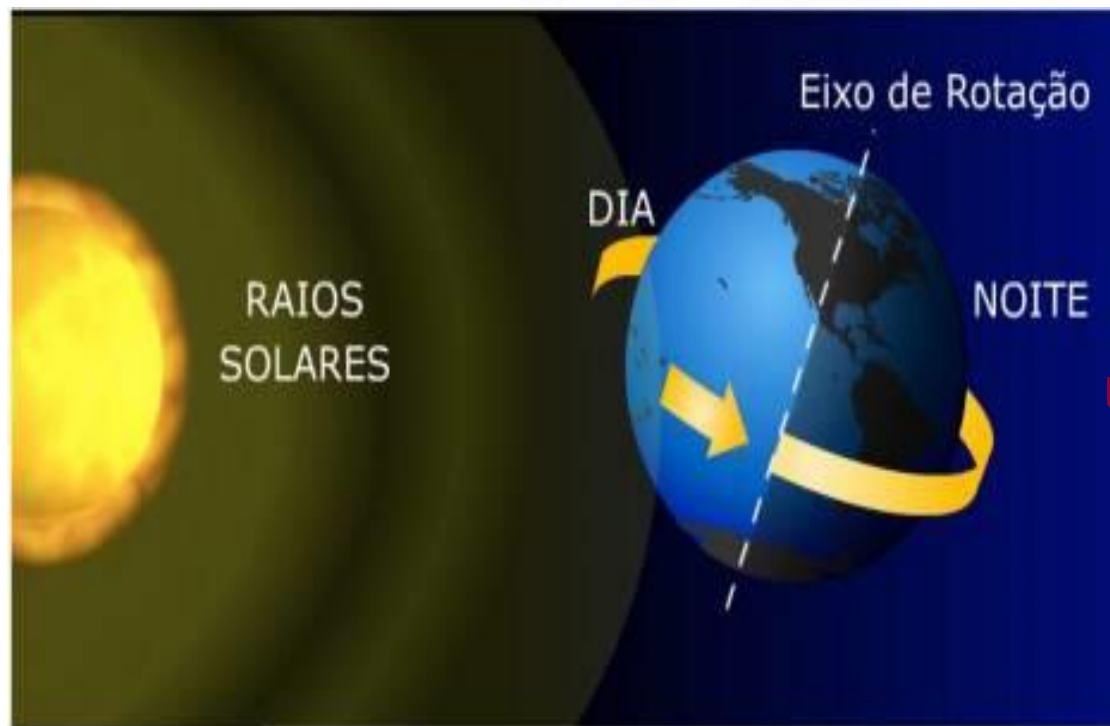
PARA OESTE = HORAS -

---

8.00 THE	6:00
- 2:00	+ 5:00 AVIAO
<hr/>	<hr/>
6:00 ACRE	11:00



07- Quais são as principais consequências dos movimentos de rotação e de translação que a Terra realiza *respectivamente*?

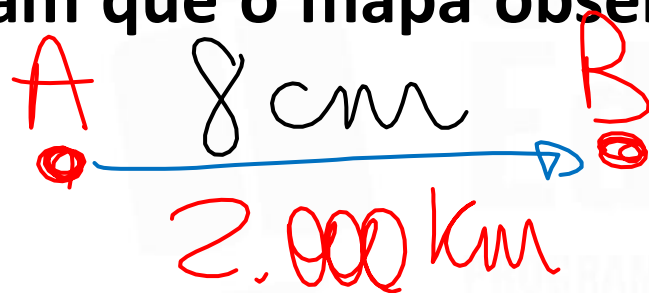


ROTAÇÃO = DIAS E NOITES  
TRANSLAÇÃO = 1 ANO  
ESTACÕES DO ANO

08- Sabe-se que a distância real, em linha reta, de uma cidade A, localizada no estado de São Paulo, a uma cidade B, localizada no estado de Alagoas, é igual a 2 000 km. Um estudante, ao analisar um mapa, verificou com sua régua que a distância entre essas duas cidades, A e B, era 8 cm.

Os dados nos indicam que o mapa observado pelo estudante está na escala de

- a) 1 : 250.
- b) 1 : 2 500.
- c) 1 : 25 000.
- d) 1 : 250 000.
- ~~e) 1 : 25 000 000.~~



$$E = \frac{D}{d}$$

$$E = \frac{2.000\cancel{000}\cancel{000}\text{ cm}}{8\text{ cm}}$$

$$E = 25.000.000$$