



**enem
2019**

CANAL SEDUC-PI1



PROFESSOR (A):

**ADRIANO
RAMALHO**



DISCIPLINA:

GEOGRAFIA



CONTEÚDO:

**REVISÃO
ENEM**

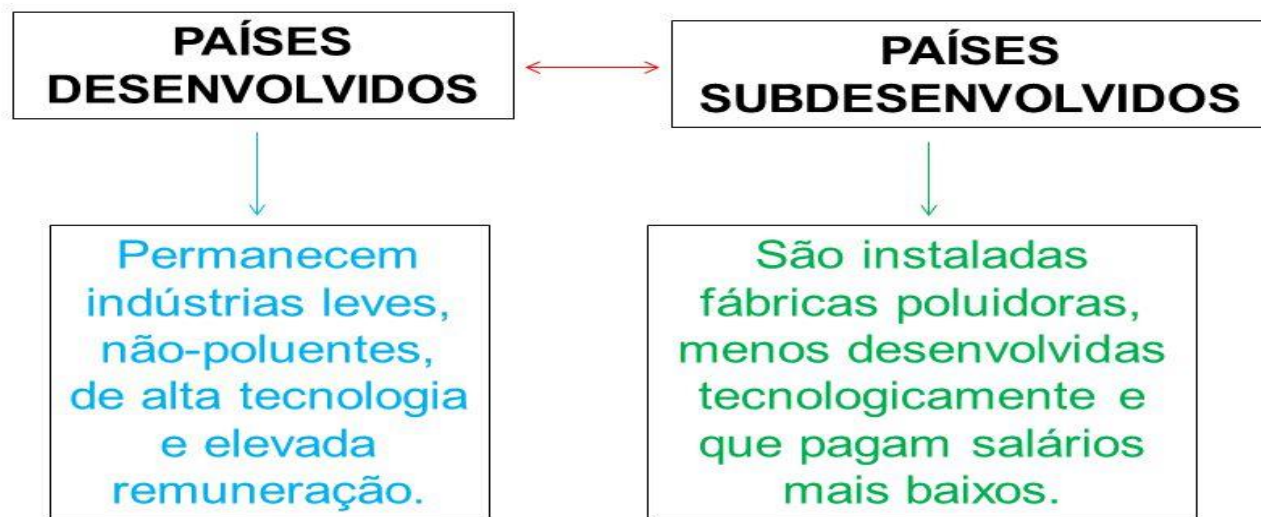


DATA:


01.09.2019

21- A partir da Revolução Industrial, cada vez mais o processo de acumulação de capital se internacionaliza. Esse processo, atualmente, tem se caracteriz

2 – Mudanças na divisão internacional do trabalho



FMI DES / SUR



P o m e F

- a) Alianças econômicas comerciais bem-sucedidas entre países ricos e pobres.
- b) Programa internacional para o desenvolvimento e a industrialização dos países pobres.
- c) Intervenção da Organização Mundial do Comércio (OMC) no sentido de democratizar as relações comerciais entre os países.
- d) Velocidade do desenvolvimento, no cenário internacional, dos países emergentes, na produção e no consumo.
- ~~e)~~ Aprofundamento da divisão do trabalho entre países e crescimento da industrialização associada ao endividamento dos países pobres.

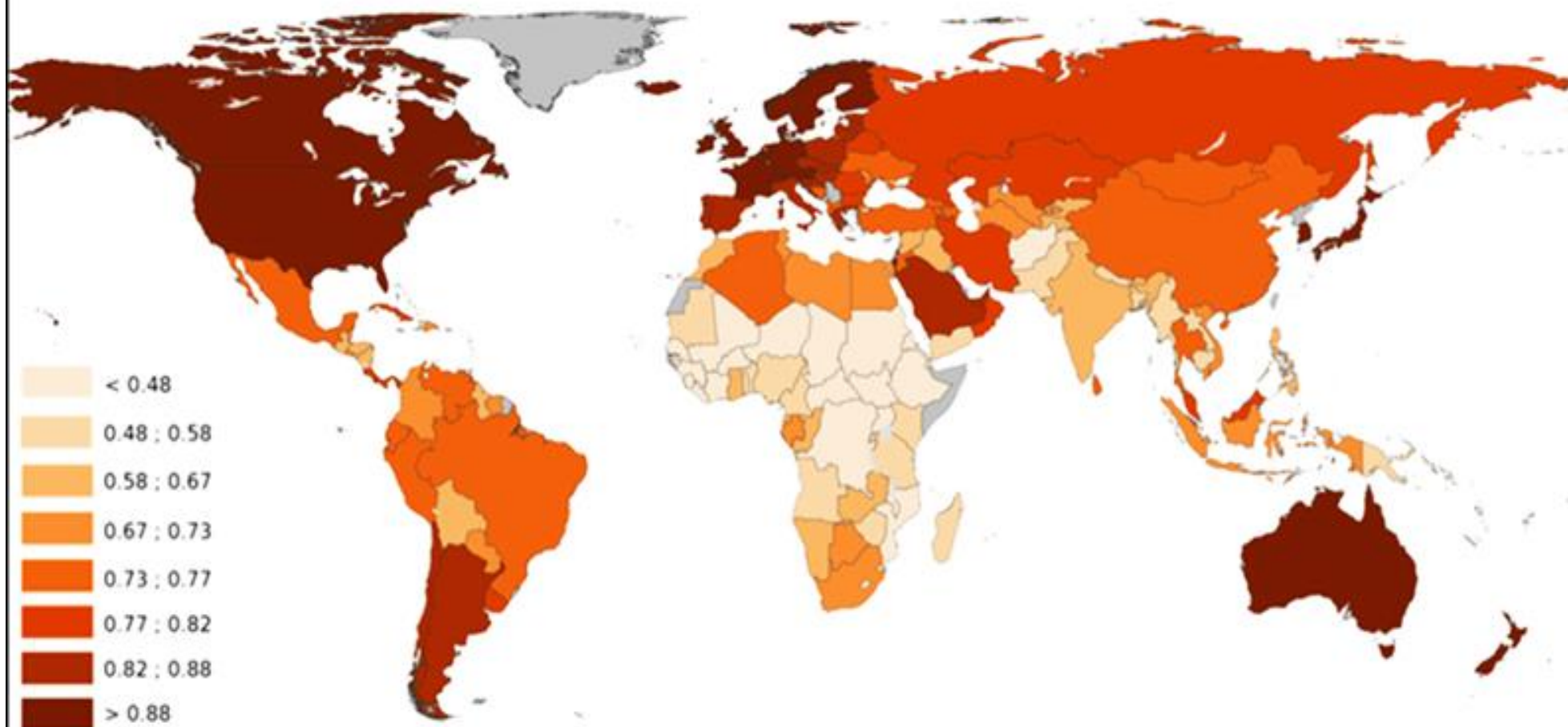
SAO PEDRO DO PI - 0,776

22- O índice de Desenvolvimento Humano (IDH) é uma medida comparativa usada para classificar a qualidade de vida oferecida por um país aos seus habitantes, levando em consideração três dimensões básicas do desenvolvimento humano: renda, educação e saúde.

O IDH vai de 0 a 1. Quanto mais próximo de 1, mais desenvolvido é o país. Analise a tabela a seguir:

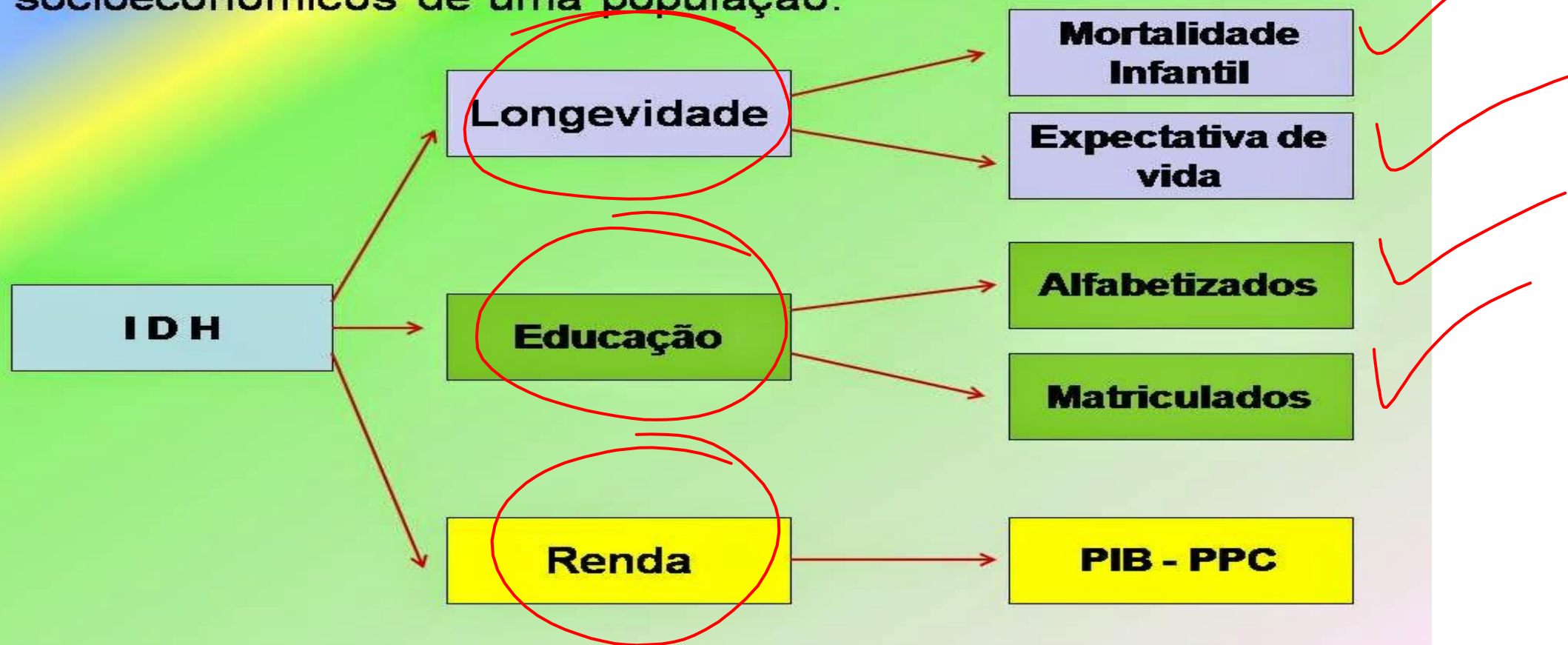
Classificação do IDH	País	IDH Valor	Expectativa de Vida (anos)	Média de anos de escolaridade (anos)	Rendimento Nacional Bruto (RNB) per capita (em dólar)
1º	Noruega	0,943	81,1	12,6	47 557
4º	EUA	0,910	78,5	12,4	43 017
45º	Argentina	0,797	75,9	9,3	14 527
51º	Cuba	0,776	79,1	9,9	5 416
84º	Brasil	0,718	73,5	7,2	10 162
173º	Zimbábue	0,376	51,4	7,2	376
174º	Etiópia	0,363	59,3	1,5	971

IDH – Índice de Desenvolvimento Humano



4) IDH - Índice de Desenvolvimento Humano

O IDH é calculado tendo por base 3 indicadores socioeconômicos de uma população:



ÍNDICE DE DESENVOLVIMENTO HUMANO

Valores, que variam de 0 a 1, foram calculados com base em dados de 2013

1º Noruega	0,944	Igual
2º Austrália	0,933	Igual
3º Suíça	0,917	Igual
4º Holanda	0,915	Igual
5º Estados Unidos	0,914	Igual
6º Alemanha	0,911	Igual
7º Nova Zelândia	0,910	Igual
8º Canadá	0,902	Igual
9º Cingapura	0,901	+3 ↑
10º Dinamarca	0,900	Igual
55º Líbia	0,784	-5 ↓
79º Brasil	0,744	+1 ↑
79º Geórgia	0,744	+2 ↑
90º Tunísia	0,721	Igual
91º China	0,719	+2 ↑
156º Zimbábue	0,492	+4 ↑

Fonte: Relatório 2013 - Índice de Desenvolvimento Humano



Pode-se concluir corretamente que

- a) a Etiópia, por contar com a qualidade nos serviços de saúde e de saneamento ambiental, ampliou a expectativa de vida de seus habitantes.
- b) o Zimbábue apresenta a média de anos de escolaridade igual à do Brasil e tem o Rendimento Nacional Bruto superior ao da Etiópia
- c) Cuba, apesar de ter o rendimento nacional bruto elevado, não investe no setor educacional e na saúde de sua população.
- d) a Argentina, por estar em crise econômica, apresenta os índices de renda, educação e saúde inferiores aos do Brasil.
- ~~e) a Noruega tem a maior classificação no IDH por, entre outros fatores, garantir vários anos de escolaridade para seus habitantes.~~

23- As novas máquinas são capazes de realizar funções que vão desde a extração de matéria-prima até a distribuição do produto final e a realização de serviços. Os computadores e robôs não são usados para criar novos produtos, como os teares a vapor ou os tornos movidos a motor elétrico, mas, sim, para desempenhar atividades antes executadas por pessoas.





As empresas multinacionais e de informatização, ao substituírem a mão de obra humana, contribuem para a eliminação de postos de trabalho, o que amplia o desemprego. Em muitos ramos, quase desapareceram os operários tradicionais. Em outras palavras, as novas tecnologias de produção, somadas a diversas razões de ordem econômica e social, podem levar ao fim de uma sociedade organizada com base no trabalho humano.

Vale lembrar que, atualmente, o mundo rumo para a direção de uma nova forma de produzir e para uma nova forma de organização social. Estamos ingressando numa revolução que mobiliza as ciências da vida sob a forma da biotecnologia, assim como várias áreas das ciências exatas e de outros ramos do conhecimento e que responde pelo nome de nanociência ou nanotecnologia.

O título mais adequado a esse texto é:

- ~~a) Rumo à quarta Revolução Industrial.~~
- b) História da Indústria no Brasil.
- c) Passagem do capitalismo comercial para o industrial.
- d) Características do capitalismo monopolista.
- e) Atuação das transnacionais.



24- Leia o texto a seguir.

$$4,14 - 579,60$$

Sweatshops: uma realidade em expansão

Mais e mais utilizada nos últimos anos, a expressão sweatshops (fábricas de suor) indica uma situação de exploração extrema dos trabalhadores por um salário abaixo do mínimo necessário à sobrevivência, pela ausência de qualquer forma de garantia ou proteção trabalhista, pela exploração de crianças, pelas condições de trabalho perigosas para a saúde ou por ameaças, moléstias sexuais e abusos físicos e psicológicos no local de trabalho.

R\$ 0,99

De acordo com a organização Global Exchange, os trabalhadores em El Salvador envolvidos na produção de tênis que, nos Estados Unidos, custam cerca de 140 dólares, ganham 24 centavos de dólar a cada sapato produzido. Na China, trabalhadores morreram vítimas de sweatshops, por uma doença que ganhou o nome de guolaosi: morte súbita por hipertrabalho. Porém, ao contrário do que se pensa, os sweatshops não são realidades exclusivas do Sul do mundo. São comuns em países do Leste Europeu e existem até nos Estados Unidos.

De acordo com a ONG CorpWatch, em Los Angeles, dois terços dos imigrantes que trabalham na confecção de roupas não recebem o salário mínimo garantido pela lei.





memor plano pra voce! lugar, rapido, pratico e sem filas.

[página inicial](#) > [celulares e smartphones](#) > [smartphone](#) > [iphone](#) > [iphone x](#)



iPhone X 256gb

(Cód.47018897) ★★★★★




Power Bank ANKER 10.000mAh - Preto
+ R\$ 229,14

Cor: **Prata**



Cinza



Prata

vendido por **AZUL STORE**
e entregue por **Americanas.com**

R\$ 5.999,00 **a** prime

10x de R\$ 599,90 s/ juros

comprar

Corra! Temos apenas 1 no estoque



R\$ 5.999,00 em até 12x de R\$ 499,91 s/ juros com Ame e receba R\$ 299,95 (5% de volta) ?



R\$ 5.999,00 no cartão Americanas.com em até 12x de R\$ 499,91 s/ juros

Ative o Windows. Acesse Configurações para ativar o Windows.

Com base no texto e em seus conhecimentos geográficos acerca do Capitalismo mundializado e da divisão do trabalho empreendida nos países Tigres, Novos Tigres asiáticos, China, entre outros, considere as afirmações a seguir.

I. Trata-se de uma típica descrição da exploração da mão de obra barata, implementada pelas empresas multinacionais e transnacionais somente em países do Sul pobre.

II. O texto apresenta a versão típica da exploração capitalista do trabalho, diferenciando-se do modelo socialista, que primou pela igualdade e por favoráveis condições de vida, haja vista o que acontece na China até hoje, sem exploração da mão de obra e com respeito aos direitos do trabalhador.

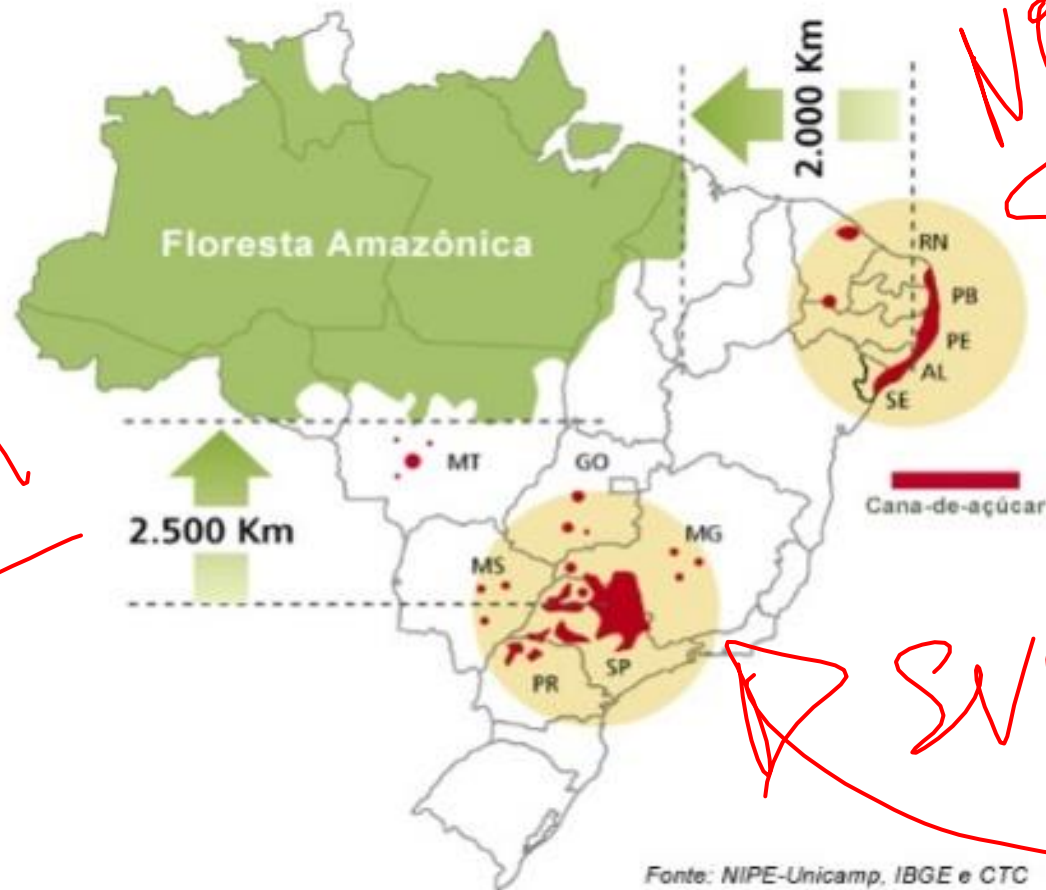
III. As sweatshops representam a versão "moderna" do modelo capitalista de exploração da mão de obra na geração da "mais valia" e na reprodução do capital, típicas do modelo econômico neoliberal.

Assinale a alternativa correta.

- ☒ a) Apenas as afirmações I e II estão corretas.
- ☐ b) Apenas a afirmação III está correta.
- ☒ c) As afirmações I, II e III estão incorretas.
- ☐ d) Apenas a afirmação I está correta.
- ☐ e) As afirmações I, II e III estão corretas.

25- Já se disse que São Paulo está tornando-se um verdadeiro canavial, tal tem sido ultimamente a expansão da cana-de-açúcar no estado. Mencione uma consequência negativa da expansão canavieira.

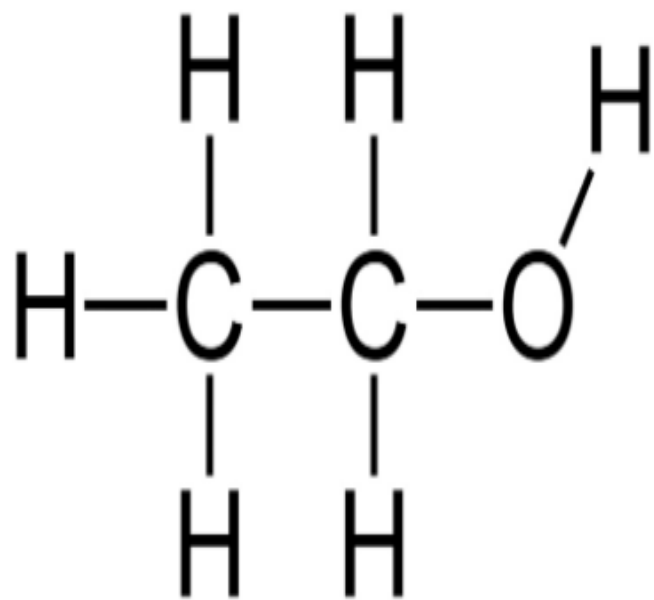
~~EXEMPLO~~
~~FLEX~~



NORDESTE

SUDESTE = 36





Etanol

O etanol também é conhecido como álcool ou espírito refere-se a álcool etílico e bebidas alcoólicas. O etanol é o principal ingrediente de álcool contido em bebidas alcoólicas, que é produzido por processo de fermentação com levedura. O etanol pode causar embriaguez. Além disso, o etanol também é usado como solvente, anti-séptico, combustível fóssil e líquido ativo em um termômetro. O etanol é um líquido volátil, fácil de queimar, líquido incolor com fórmula de estrutura $\text{CH}_3\text{CH}_2\text{OH}$, muitas vezes abreviado como $\text{C}_2\text{H}_5\text{OH}$ ou $\text{C}_2\text{H}_6\text{O}$.

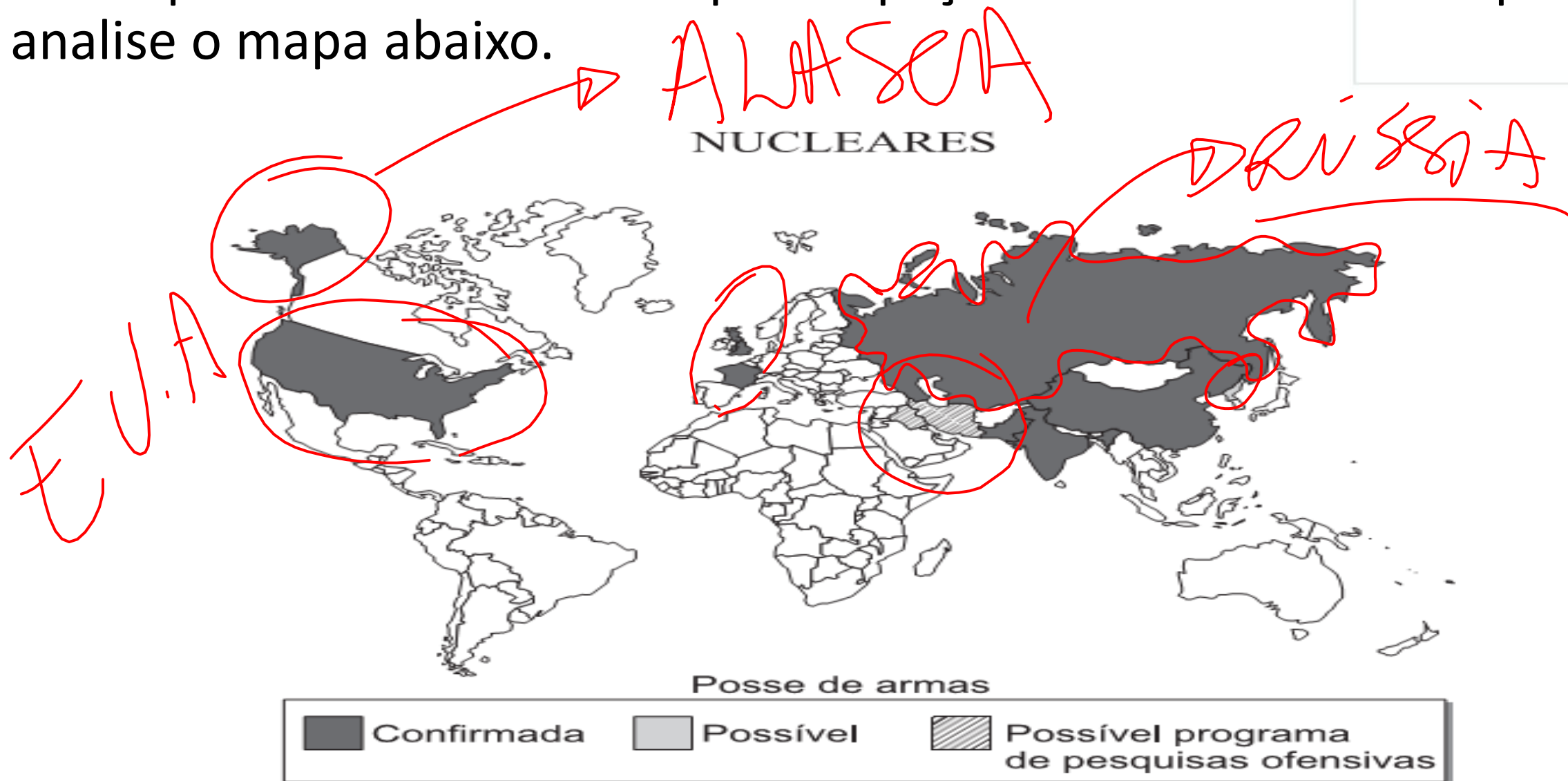
 [Ler mais](#)





- a) A expansão das áreas destinadas ao cultivo da cana-de-açúcar acarretou a diminuição ou a substituição das áreas antes destinadas ao plantio de gêneros alimentícios.
- b) Ocasionou a entrada de ~~capital argentino~~ gerando mais empregos na região.
- c) Gerou a saída de ~~capital do Brasil~~ para outros países da América do Sul.
- d) Maior presença do ~~trabalho familiar~~ nessa região.
- e) ~~Menos~~ incentivos do governo devido as grandes áreas desmatadas.

26- A questão nuclear é uma preocupação mundial. A esse respeito, analise o mapa abaixo.



(Revista *National Geographic* – Brasil, novembro de 2012.)














O desastre de Chernobil foi um acidente nuclear catastrófico que ocorreu em 26 de abril de 1986 na central elétrica da Usina Nuclear de Chernobil, que estava sob a jurisdição direta das autoridades centrais da União Soviética









NUCLEARES

ALASKA

EUA



Posse de armas



Confirmada



Possível



Possível programa
de pesquisas ofensivas

(Revista *National Geographic* – Brasil, novembro de 2012.)

Nesse mapa, é possível observar:

- I. A maioria das nações do mundo não possui armas nucleares; ✓
- II. Acredita-se que o Irã está desenvolvendo tecnologia para equipar mísseis com ogivas nucleares; ✓
- III. Apenas dois países da América possuem armas nucleares; F
- IV. Os acordos de não proliferação atômica não impediram que vários países desenvolvessem artefatos nucleares. ✓

Estão corretas:

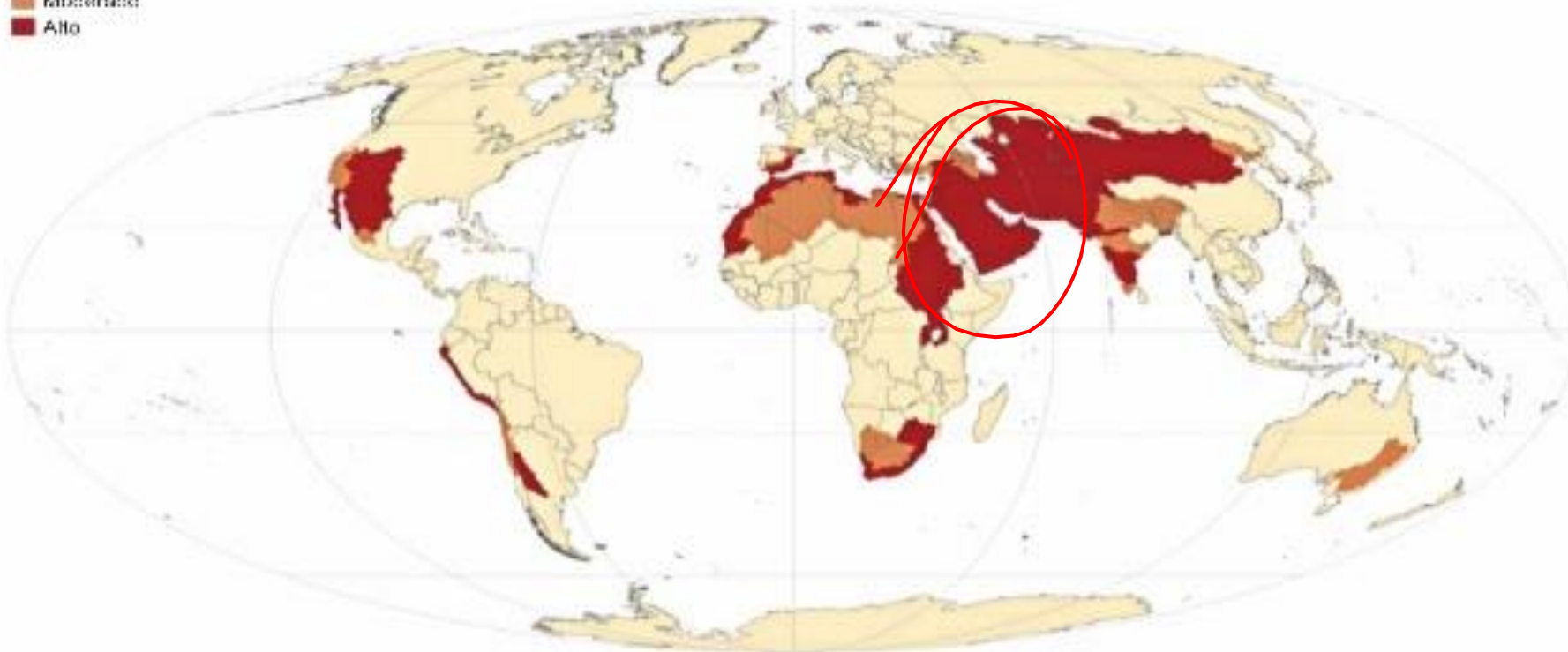
- a) I, II e III
- b) II e III
- c) III e IV
- d) Apenas a I
- e) I, II e IV



27- Mais do que em qualquer outra parte do Globo, a água tem um papel tão essencial nesta região que se costuma mesmo falar em "hidropolítica" ou "hidrogeopolítica".


DISTRIBUIÇÃO GLOBAL DE ESCASSEZ DE ÁGUA POR MAIORES BACIAS DE RIOS

■ Baixa
■ Moderada
■ Alta









Os problemas geopolíticos ligados ao traçado dos cursos de água e às obras hidráulicas costumam ser tratados como questões de soberania e quase sempre provocam conflitos que tendem a se tornar cada vez mais violentos à medida que a população da região como um todo cresce e necessita mais e mais de água.

- ~~a) ao sul da África;~~
- ~~b) o sudeste asiático;~~
- ~~c) o extremo oriente;~~
- ~~d) o oriente médio.~~
- ~~e) América do Sul~~

