

**2^a
SÉRIE**

CANAL SEDUC-PI2



PROFESSOR (A):

**ADRIANO
RAMALHO**



DISCIPLINA:

GEOGRAFIA



CONTEÚDO:

**TERRITÓRIO
BRASILEIRO**



TEMA GERADOR:

**PAZ NA
ESCOLA**



DATA:

02/04/2019

ROTEIRO DE AULA

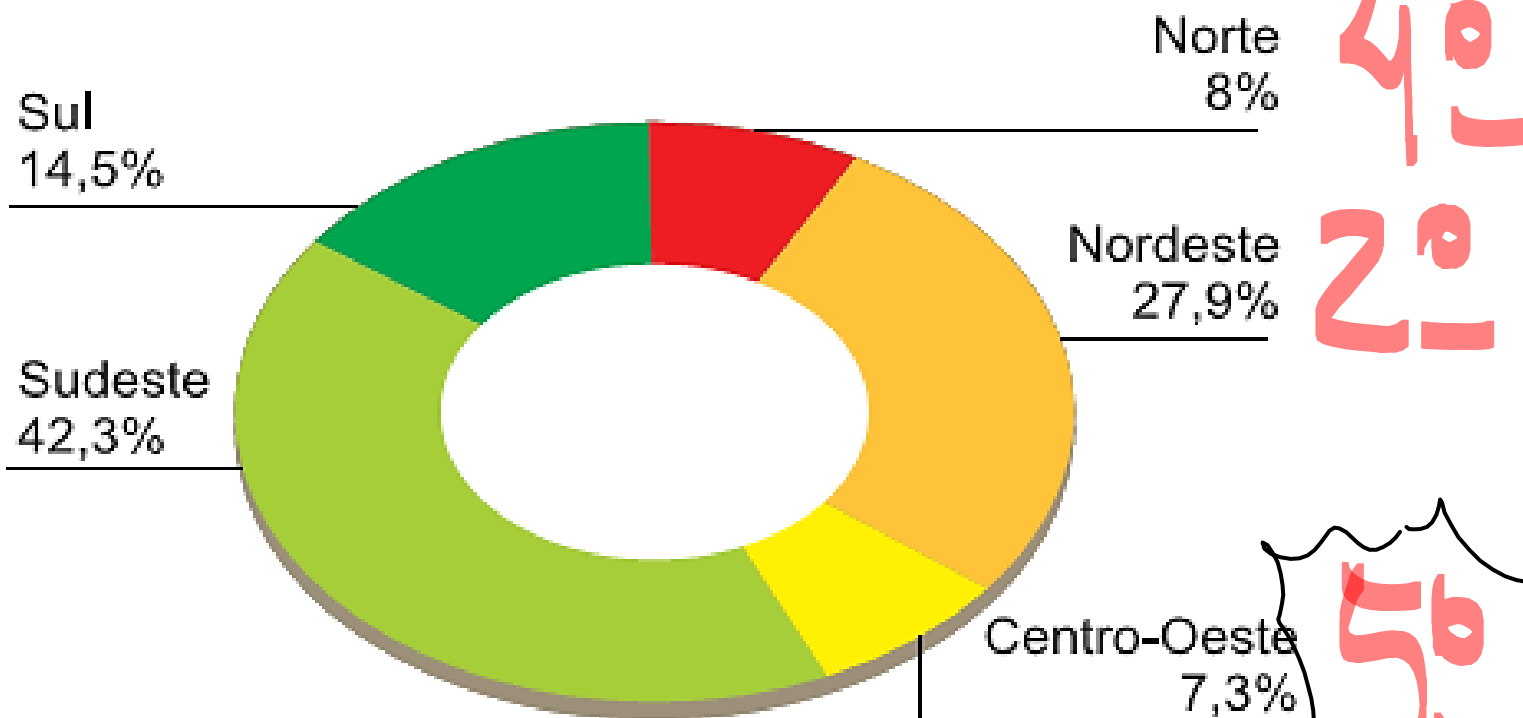
CONTEÚDO:

- Formação e organização do território brasileiro.

Distribuição por região

População - 2010

Total no Brasil: 190 732 694 habitantes




Exercício 01

“A cultura brasileira teve, tem e sempre terá forte influência negra. E não poderia ser diferente.” (FERRAZ Katia. Revista Cultural)

01- Qual a região brasileira mais influenciada pela cultura negra?

A Região Nordeste foi a primeira a receber grande contingente de escravos africanos para desenvolver o cultivo da cana na Zona da Mata Nordestina.



Exercício 02

02- A cara do Brasil é feita com **todas as cores**. A riquíssima fotografia étnica vem sendo revelada no decorrer do processo histórico que formou nosso povo. Quanto à composição étnica da população brasileira, julgue os itens em verdadeiro ou falso.

I. (☒) Em números absolutos, houve uma diminuição da população indígena, **desde o descobrimento** até hoje, provocada pela **morte** em conflitos e pelas epidemias.

II. (☐) Os brancos que compõe a população brasileira possuem, em sua maioria, **origem europeia**; nesse conjunto, os **portugueses** e **italianos** formam os grupos **mais numerosos na formação étnica do Brasil**.

(← SPANHA)

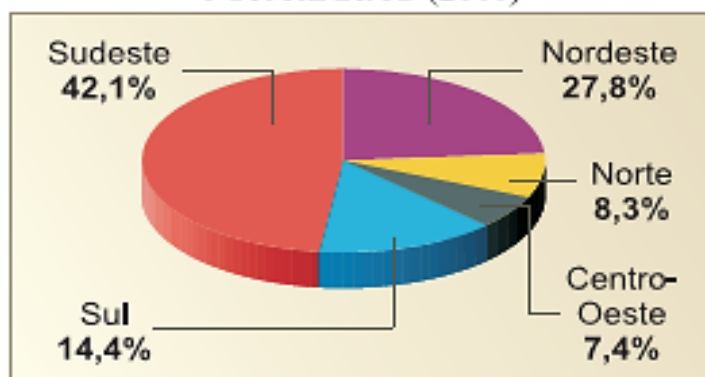
Exercício 03

03- Explique a expressão: “O Brasil é um país populoso, mas pouco povoado.”

É populoso porque a população absoluta é elevada, **190 milhões** de habitantes, e fracamente povoado, pois a população relativa (densidade demográfica) é pequena, cerca de **22,5 hab/km²**, em face da grande extensão territorial.

Exercício 04

DISTRIBUIÇÃO PERCENTUAL
DA POPULAÇÃO BRASILEIRA
POR REGIÃO (2011)



População brasileira por região (em milhões)
2011

Brasil	190,7
Sudeste	80,3
Nordeste	53,0
Sul	27,3
Norte	15,8
Centro-Oeste	14,0

(IBGE, 2010)

Com base nos dados do gráfico e da tabela, podemos afirmar que

a) o Brasil é considerado um país pouco populoso.

b) o Brasil é considerado um país muito povoado.

~~c) o Sudeste é a Região com maior contingente populacional do País.~~

d) a Região Nordeste é a segunda mais povoada do País.

e) a Região Centro Oeste é a menos povoada do País.

Taxa de Natalidade

5,8

5,8



Este fenômeno ocorreu porque o Brasil passou a ser um país urbano-industrial e, nestas condições, as taxas de natalidade são mais baixas em função, entre outros fatores, do elevado custo de criação do indivíduo no meio urbano.

TAXA DE MORTALIDADE

É a relação entre o número de óbitos ocorridos em um ano e o número de habitantes.

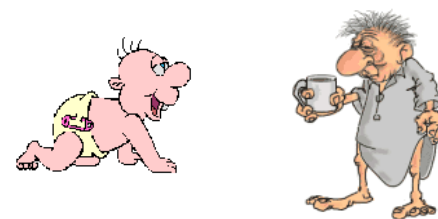


Distribuição por sexo da população

Sexo	Distribuição da população por sexo (%)			
	1980	1996	2006	2010
Masculino	49,7	49,4	48,7	48,9
Feminino	50,3	50,6	51,3	51,4

Os resultados mostram que existem 95,9 homens para cada 100 mulheres, ou seja existem mais 3,9 milhões de mulheres a mais que homens no Brasil. Em 2000, para cada 100 mulheres, havia 96,9 homens. A população brasileira é composta por 97 342 162 mulheres e 93 390 532 homens.

ESTRUTURA POR IDADE

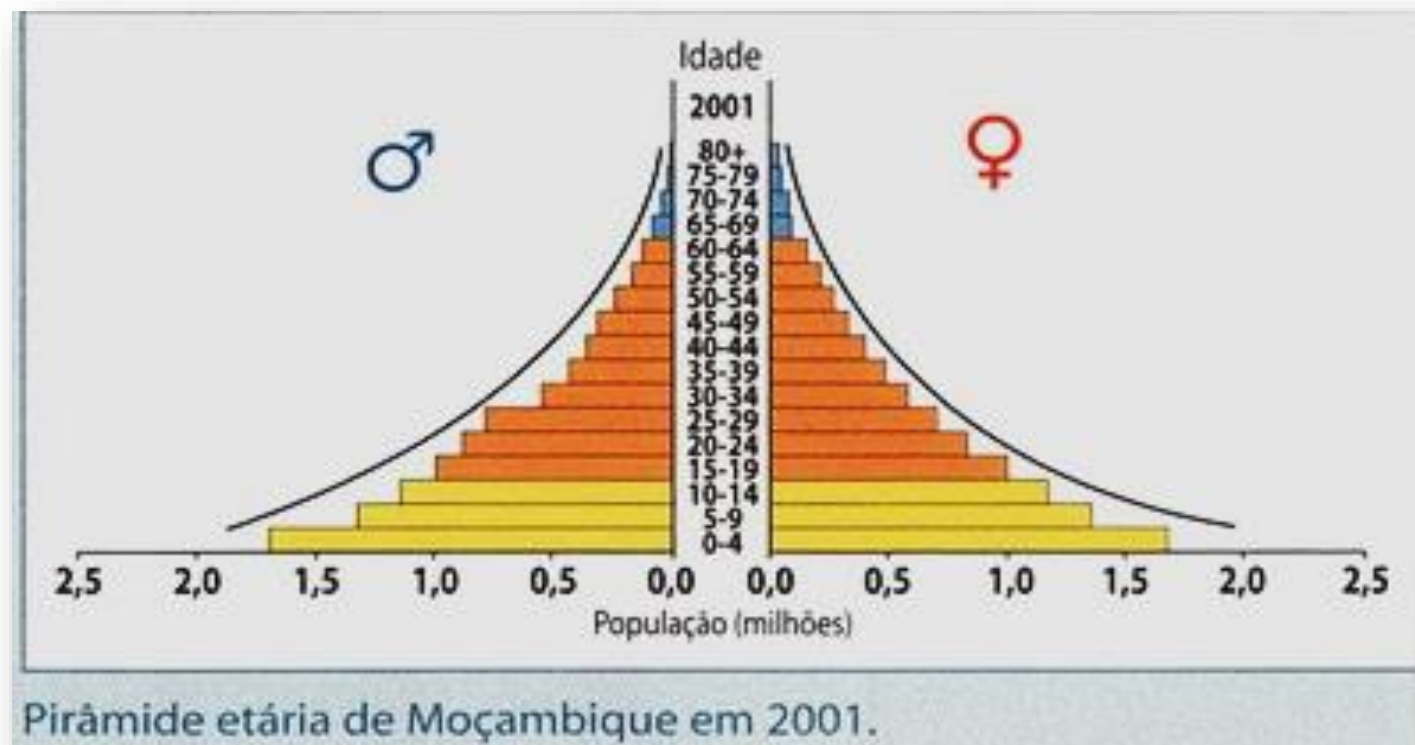


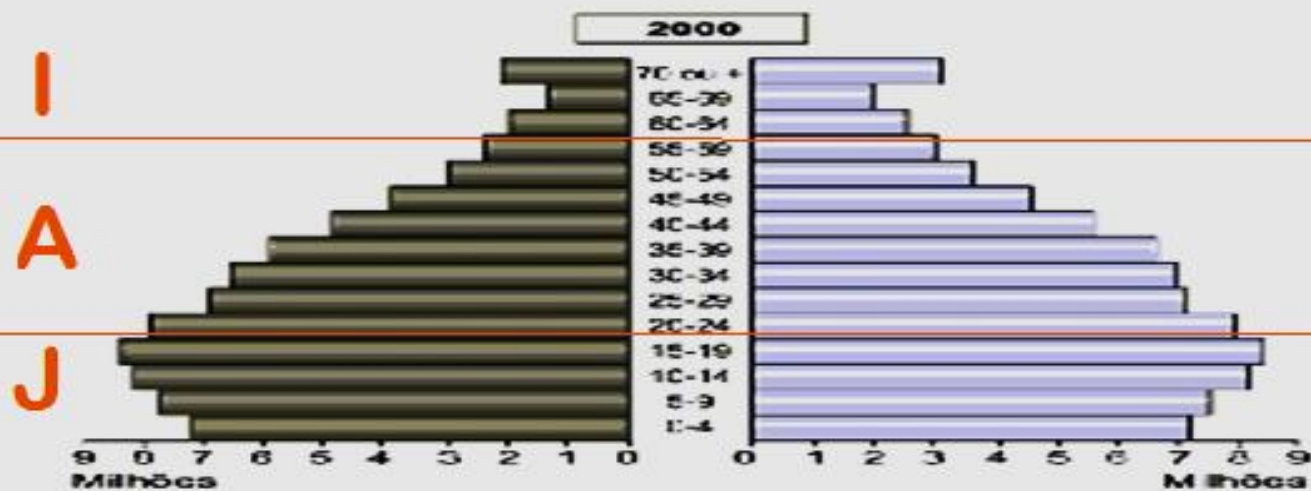
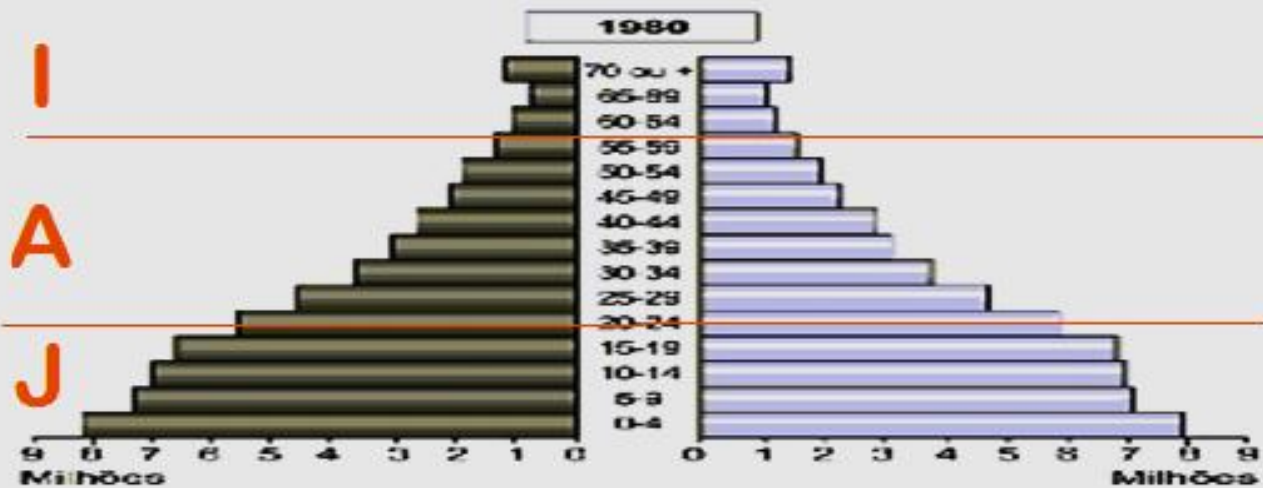
Trata-se da **distribuição da população** por idade, tradicionalmente dividida em três faixas: **jovens**, **adultos** e **idosos**.

	1980	1991	2012
Jovens (0 a 19 anos)	48,5%	46,62%	38,84%
Adultos (20 a 59 anos)	45%	46,79%	52,06%
Idosos (acima de 60 anos)	6,5%	6,58%	9,1%

PIRÂMIDE ETÁRIA

Trata-se da representação gráfica da **composição de uma população**, segundo o **sexo** e a **idade**.





ATIVIDADE DE CASA