

**3ª
SÉRIE**

CANAL SEDUC-PI3



PROFESSOR (A):

**ADRIANO
RAMALHO**



DISCIPLINA:

GEOGRAFIA



AULA Nº:

03



CONTEÚDO:

**SETORES DA
ECONOMIA**



TEMA GERADOR:

**PAZ NA
ESCOLA**



DATA:

09/03/2020

NA AULA ANTERIOR

Reconhecemos os conceitos demográficos

Avaliamos as transformações do cenário populacional mundial

Compreendemos o que estrutura demográfica das nações



ATIVIDADE PARA CASA

01-

Relacione os indicadores demográficos às suas respectivas definições:

| | | |
|------------------------------|---|---|
| (1) Taxa de natalidade | 2 | () Número de óbitos ocorridos no período de um ano calculado a cada mil habitantes. |
| (2) Taxa de mortalidade | 3 | () Representa a média de filhos por mulher ao longo de seu período fértil. |
| (3) Taxa de fecundidade | 1 | () Número de nascidos vivos no período de um ano, excluindo o número de crianças que nasceram mortas, calculado a cada mil habitantes. |
| (4) Crescimento vegetativo | 4 | () Representa a diferença entre a taxa de natalidade e a taxa de mortalidade no período de um ano. |



ROTEIRO DE AULA

Reconhecer os setores da economia

Avaliar os modelos de migração populacional

Compreender a situação dos povos refugiados

Recursos :

Lousa digital

Vídeos

Imagens em ALFA

CROMA

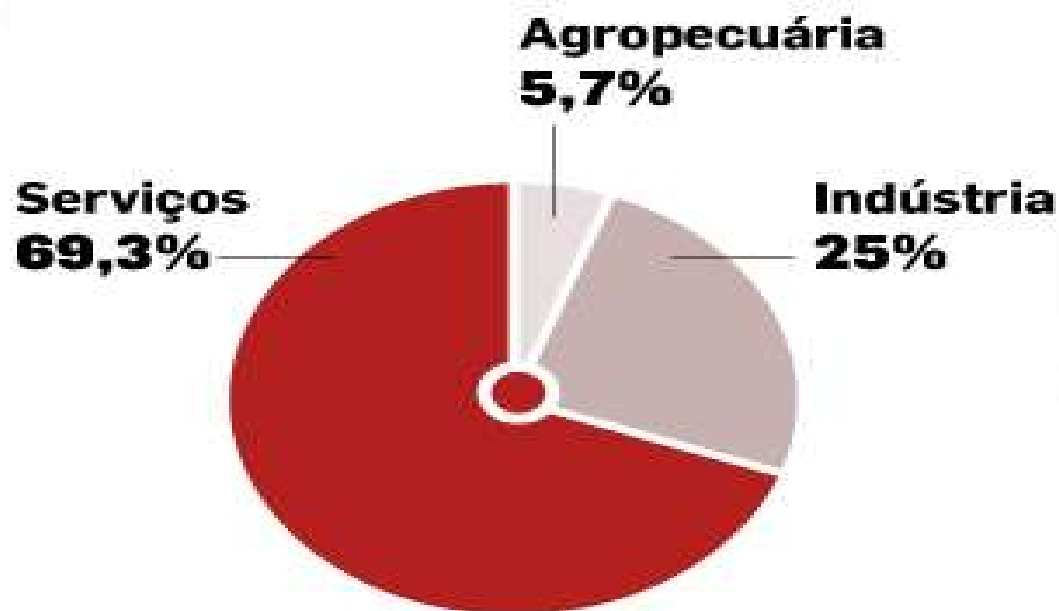
SETORES DA ECONOMIA

- **PRIMÁRIO: FORNECEDOR DE MATÉRIA PRIMA;**
 - AGROPECUÁRIA E EXTRATIVISMO, PESCA;
- **SECUNDÁRIO: TRANSFORMAÇÃO;**
 - INDÚSTRIA, CONSTRUÇÃO CIVIL, ARTESANATO, ENERGIA;
- **SETOR TERCIÁRIO: SERVIÇOS, COMÉRCIO.**
- **QUATERNÁRIO: TECNOLOGIA.**
- **SETORES SOCIAIS:**
 - 1º O ESTADO
 - 2º EMPRESAS PRIVADAS
 - 3º ONGS



SETORES DA ECONOMIA DO BRASIL

● Participação das atividades
no PIB, em 2013



FONTE: IBGE

INFOGRÁFICO/ESTADÃO


| País | PIB (GDP) Nominal (Bilhões de US\$) | | | | |
|--|-------------------------------------|--------------|------|--------|------|
| | 2016 | Participação | Rank | 2020 | Rank |
|  Estados Unidos | 18,561.934 | 24.7 | 1 | 21,927 | 1 |
|  China | 11,391.619 | 15.1 | 2 | 16,458 | 2 |
|  Japão | 4,730.300 | 6.29 | 3 | 5,506 | 3 |
|  Alemanha | 3,494.898 | 4.65 | 4 | 4,008 | 4 |
|  Reino Unido | 2,649.893 | 3.52 | 5 | 2,928 | 6 |
|  França | 2,488.284 | 3.31 | 6 | 2,851 | 7 |
|  Índia | 2,250.987 | 2.99 | 7 | 3,297 | 5 |
|  Itália | 1,852.499 | 2.46 | 8 | 2,046 | 9 |
|  Brasil | 1,769.601 | 2.35 | 9 | 2,214 | 8 |
|  Canadá | 1,532.343 | 2.04 | 10 | 1,856 | 10 |

IDH

OBJETIVO: MEDIR O GRAU DE DESENVOLVIMENTO **ECONÔMICO** E A **QUALIDADE DE VIDA** OFERECIDA À POPULAÇÃO.

COMPONENTES: A **EXPECTATIVA** DE VIDA, **EDUCAÇÃO** E **REND**A.

VAI DE 0 A 1, QUANTO MAIS PRÓXIMO DE 1, MAIS DESENVOLVIDO É CONSIDERADO O PAÍS.



Ranking de desenvolvimento humano

Os primeiros têm maior desenvolvimento; os últimos, menor.
De 188 países, Brasil é o 79º

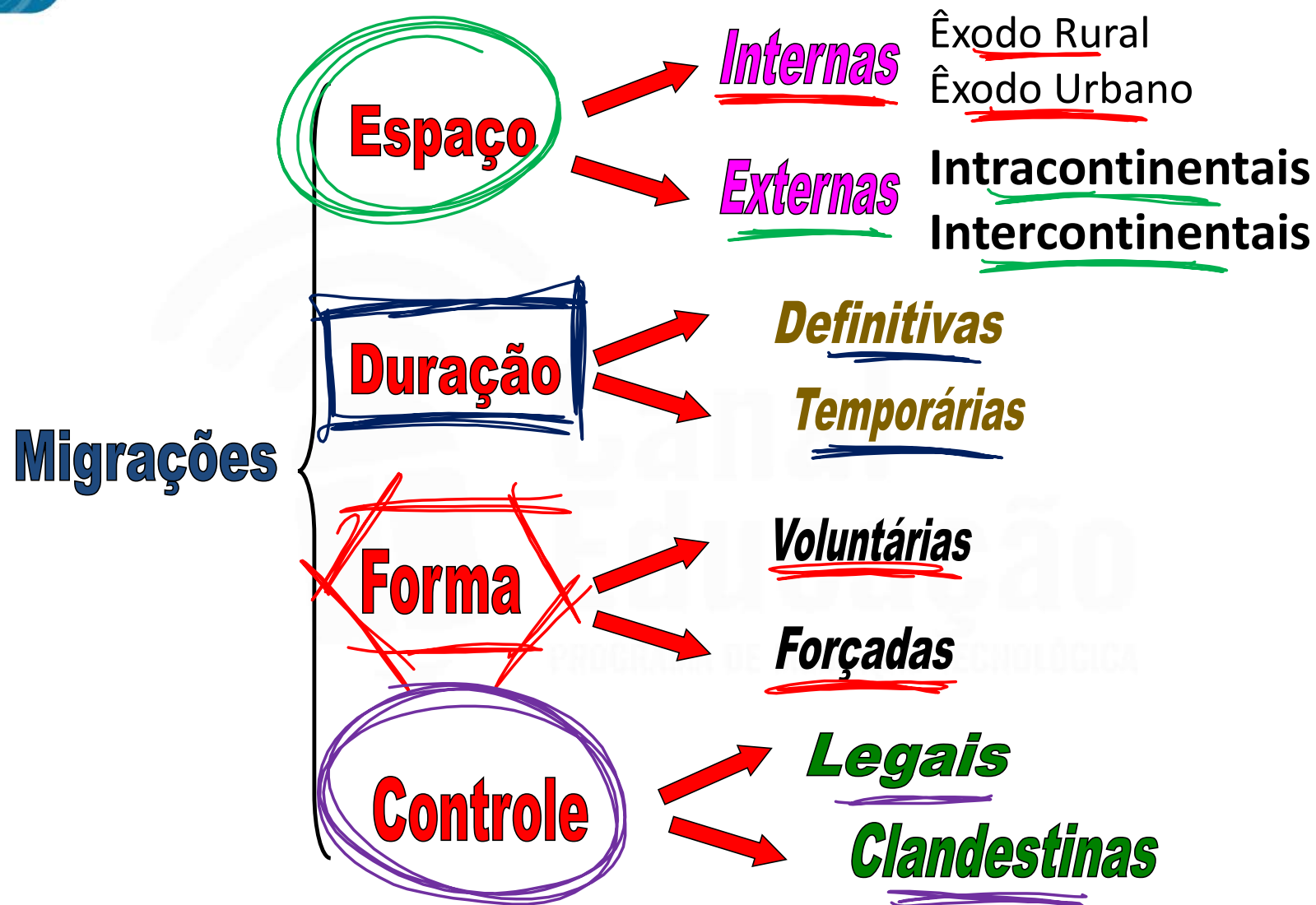
O A J

Desenvolvimento humano 'muito alto'

| | | | |
|---|---|-----------|-------|
| 1 |  | Noruega | 0,949 |
| 2 |  | Austrália | 0,939 |
| 2 |  | Suíça | 0,939 |
| 4 |  | Alemanha | 0,926 |
| 5 |  | Dinamarca | 0,925 |
| 5 |  | Cingapura | 0,925 |

Países próximos da faixa do Brasil


| | | | | |
|----|---|-----------------------|---|-------|
| 74 |  | São Cristóvão e Nevis |  | 0,765 |
| 75 |  | Albânia |  | 0,764 |
| 76 |  | Líbano |  | 0,763 |
| 77 |  | México |  | 0,762 |
| 78 |  | Azerbaijão |  | 0,759 |
| 79 |  | Brasil |  | 0,754 |
| 79 |  | Granada |  | 0,754 |
| 81 |  | Bósnia e Herzegovina |  | 0,750 |
| 82 |  | Macedônia |  | 0,748 |
| 83 |  | Argélia |  | 0,754 |
| 84 |  | Armênia |  | 0,743 |



MIGRAÇÕES NACIONAIS OU INTERNAS:

Dentro do mesmo País

- ❖ Inter-regional (entre regiões)
- ❖ Intra-regional (dentro da mesma região)
- ❖ Inter-estadual (entre estados)
- ❖ Intra-estadual (dentro do estado)
- ❖ Êxodo-rural (saída campo p/ cidade)
- ❖ Êxodo-urbano (saída da cidade p/ campo)
- ❖ Urbano-Urbano (de uma cidade p/ outra)
- ❖ Transumância ou Sazonal (estações do ano)
- ❖ Nomadismo (busca de alimento/abrigo)
- ❖ Pendular ou Diária (trabalho/casa)



ÁREAS DE MIGRAÇÃO

QUANTO À NATUREZA

- **ECÚMENA:** BOM POVOAMENTO NATURAL.



- **ANECÚMENA:** PRECÁRIO POVOAMENTO NATURAL.



QUANTO À ATRAÇÃO

- **AFLUXO:** ALTA IMIGRAÇÃO.



- **REFLUXO:** ALTA EMIGRAÇÃO.



ATIVIDADE PARA CASA

01- Qual foi a principal motivação que levou os venezuelanos a deixarem seu país e seguirem para o Brasil?

- a) Os venezuelanos vieram para o Brasil depois que um terremoto atingiu o país em 2010, afetando milhares de pessoas.
- b) Os venezuelanos vieram para o Brasil, porque o governo brasileiro criou um programa para o recebimento de imigrantes que desejassem trabalhar em áreas da construção civil.
- c) Os venezuelanos vieram para o Brasil em decorrência de uma grave crise política, econômica e humanitária que se instaurou na Venezuela.
- d) Os venezuelanos vieram para o Brasil fugindo das diversas catástrofes naturais que atingem o país periodicamente.

