



EJA
ETAPA IV

Ensino Fundamental (6º e 7º anos)



PROFESSOR (A):

RAPHAELL



DISCIPLINA:

MATEMÁTICA



AULA Nº:

01



CONTEÚDO:

**OPERAÇÃO
SUBTRAÇÃO**



DATA:

11/05/2020

OPERAÇÕES COM NÚMEROS NATURAIS ADIÇÃO


Canal
Educação
PROGRAMA DE MEDIAÇÃO TECNOLÓGICA

QUESTÃO

Em um jogo de basquete, Oscar marcou 28 cestas no primeiro tempo, 14 cestas no segundo tempo, 8 cestas no terceiro tempo e 5 cestas no quarto tempo.

Sabendo que cada cesta vale 3 pontos, quantos pontos Oscar fez no jogo.

SOLUÇÃO



anal
educação
SISTEMA DE MEDIAÇÃO TECNOLÓGICA

SOLUÇÃO

$$28 + 14 + 8 + 5 = ?$$

SOLUÇÃO

$$28 + 14 + 8 + 5 = 55$$

55

SOLUÇÃO

$$28 + 14 + 8 + 5 = 55$$

55

$$55 \times 3 = 155$$

SOLUÇÃO

$$28 + 14 + 8 + 5 = 55$$

55

$$55 \times 3 = 155$$

155

OPERAÇÃO SUBTRAÇÃO

Camila
Educação
PROGRAMA DE MEDIAÇÃO TECNOLÓGICA

SUBTRAÇÃO

A **subtração** é uma das quatro operações fundamentais da aritmética. Consiste em subtrair dois ou mais números tendo um outro número como resultado. O sinal indicativo da subtração é o “sinal de menos” (–).



Canal
Educação
PROGRAMA DE MEDIAÇÃO TECNOLÓGICA

SUBTRAÇÃO

A **subtração** é uma das quatro operações fundamentais da aritmética. Consiste em subtrair dois ou mais números tendo um outro número como resultado. O sinal indicativo da subtração é o “sinal de menos” (–).

Os números antes do sinal de igual são chamados de **minuendo** e **subtraendo**. O valor após o sinal de igualdade é chamado de **diferença** ou **resto**.

$$4 - 3 = 1$$

SUBTRAÇÃO

A **subtração** é uma das quatro operações fundamentais da aritmética. Consiste em subtrair dois ou mais números tendo um outro número como resultado. O sinal indicativo da subtração é o “sinal de menos” (–).

Os números antes do sinal de igual são chamados de **minuendo** e **subtraendo**. O valor após o sinal de igualdade é chamado de **diferença** ou **resto**.

$$4 - 3 = 1 \longrightarrow$$

O número 4 é o minuendo, o 3 é o subtraendo e o 1 a diferença ou resto.

CUIDADO!

Na subtração, trocar a ordem em que os valores são subtraídos tem resultado diferente. Que nesse caso será um valor com sinal trocado.



CUIDADO!

Na subtração, trocar a ordem em que os valores são subtraídos tem resultado diferente. Que nesse caso será um valor com sinal trocado.

$$3 - 4 = -1 \rightarrow$$

O número 3 é o minuendo, o 4 é o subtraendo e o -1 a diferença ou resto.

JOGO DE SINAL

- $+(-) = -$
- $-(+) = -$
- $+(+) = +$
- $-(-) = +$

cão
TECNOLÓGICA

QUESTÃO 01

Uma fábrica de sapatos possui 5235 pares de calçados em estoque e recebe um pedido, de um único cliente, de 4989 pares de calçados. Quantas unidades de calçados sobraram em estoque após a entrega desse pedido?

- a) 246 calçados
- b) 492 calçados
- c) 500 calçados
- d) 546 calçados
- e) 692 calçados

SOLUÇÃO



Canal
Educação
PROGRAMA DE MEDIAÇÃO TECNOLÓGICA


SOLUÇÃO



$$\begin{array}{r} _ 5\ 235 \\ 4989 \\ \hline \end{array}$$



SOLUÇÃO



$$\begin{array}{r} _ 5\,235 \\ _ 4989 \\ \hline 246 \end{array}$$

SOLUÇÃO



$$\begin{array}{r} _ 5\,235 \\ - 4\,989 \\ \hline 246 \end{array}$$

246



QUESTÃO 01

Uma fábrica de sapatos possui 5235 pares de calçados em estoque e recebe um pedido, de um único cliente, de 4989 pares de calçados. Quantas unidades de calçados sobraram em estoque após a entrega desse pedido?

- a) 246 calçados
- b) 492 calçados
- c) 500 calçados
- d) 546 calçados
- e) 692 calçados



QUESTÃO 01

Uma fábrica de sapatos possui 5235 pares de calçados em estoque e recebe um pedido, de um único cliente, de 4989 pares de calçados. Quantas unidades de calçados sobraram em estoque após a entrega desse pedido?

- a) 246 calçados
- b) 492 calçados
- c) 500 calçados
- d) 546 calçados
- e) 692 calçados

246

$$246 \times 2 = ???$$

ç

QUESTÃO 01

Uma fábrica de sapatos possui 5235 pares de calçados em estoque e recebe um pedido, de um único cliente, de 4989 pares de calçados. Quantas unidades de calçados sobraram em estoque após a entrega desse pedido?

- a) 246 calçados
- b) 492 calçados
- c) 500 calçados
- d) 546 calçados
- e) 692 calçados

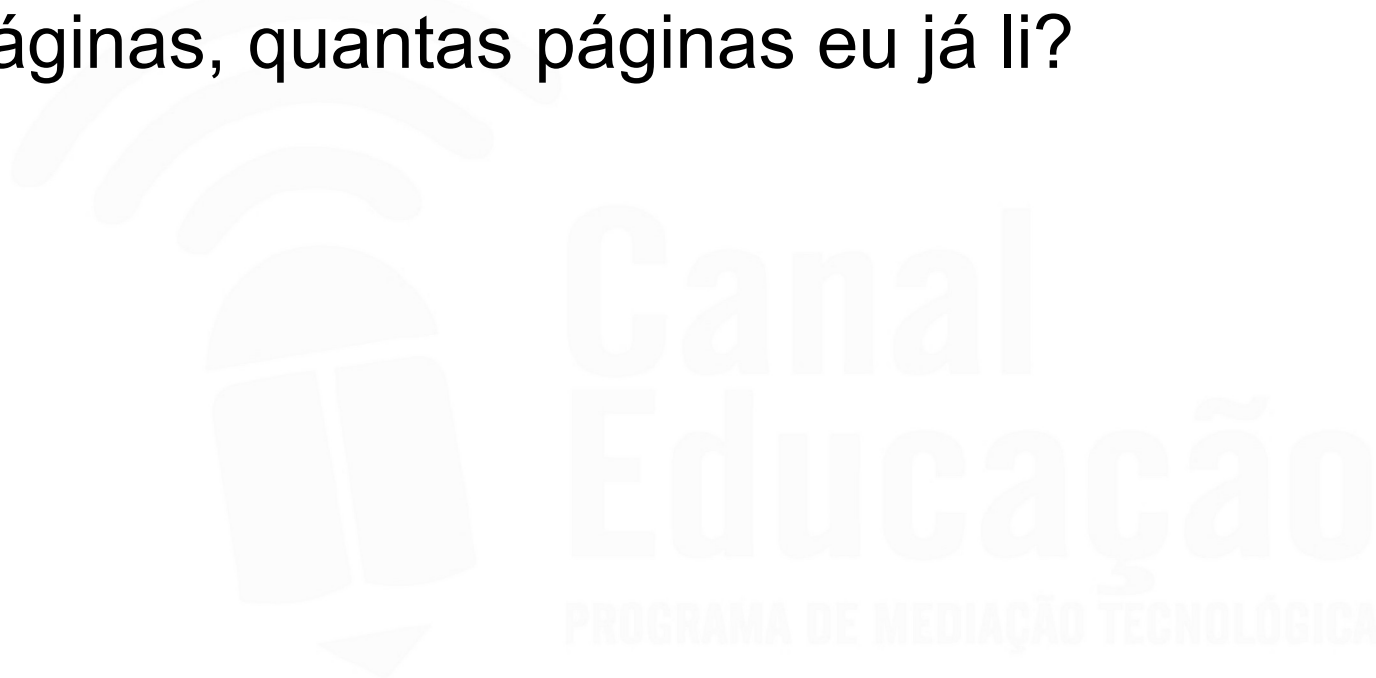
246

$$246 \times 2 = 492$$

ç

QUESTÃO 02

Faltam 63 páginas para eu terminar de ler meu livro. Se este livro possui 450 páginas, quantas páginas eu já li?



SOLUÇÃO



Canal
Educação
PROGRAMA DE MEDIAÇÃO TECNOLÓGICA

SOLUÇÃO




$$\begin{array}{r} - 450 \\ 63 \\ \hline \end{array}$$



Canal
Educação
PROGRAMA DE MEDIAÇÃO TECNOLÓGICA

SOLUÇÃO



$$\begin{array}{r} - 450 \\ 63 \\ \hline 387 \end{array}$$



SOLUÇÃO



$$\begin{array}{r} - 450 \\ 63 \\ \hline 387 \end{array}$$

387 á

Canal
Educação
PROGRAMA DE MEDIAÇÃO TECNOLÓGICA

QUESTÃO 03

Marizete faz e vende cocadas que são colocadas em caixas contendo 15 cocadas cada. Enquanto a massa esfria no tabuleiro, ela embrulha e acondiciona as cocadas já cortadas. Ao arrumar a última caixa do dia, ela percebe que só há 9 cocadas. Quantas ela deve ainda cortar e embrulhar para completar a caixa?

SOLUÇÃO

Queremos saber quanto falta para completar a caixa, ou seja quanto devemos somar a 9 para dar 15.

SOLUÇÃO

Queremos saber quanto falta para completar a caixa, ou seja quanto devemos somar a 9 para dar 15.

$$15 - 9 = 6$$

SOLUÇÃO

Queremos saber quanto falta para completar a caixa, ou seja quanto devemos somar a 9 para dar 15.

$$15 - 9 = 6$$

QUESTÃO 04

A um número foi somado 7854 e o resultado obtido foi 20000. Que número é esse?

- a) 1006
- b) 10056
- c) 12454
- d) 12146
- e) 15004

SOLUÇÃO

A um número foi somado 7854 e o resultado obtido foi 20000. Que número é esse?

SOLUÇÃO

A um número foi somado 7854 e o resultado obtido foi 20000. Que número é esse?

$$\begin{array}{r} _ 20000 \\ - 7854 \\ \hline \end{array}$$

SOLUÇÃO

A um número foi somado 7854 e o resultado obtido foi 20000. Que número é esse?

$$\begin{array}{r} _ 199910 \\ _ 7854 \\ \hline 12146 \end{array}$$

SOLUÇÃO

A um número foi somado 7854 e o resultado obtido foi 20000. Que número é esse?

$$\begin{array}{r} _ 20000 \\ _ 7854 \\ \hline 12146 \end{array}$$

O número que foi somado a 7854 para obter 20000 como resultado é 12146.



Canal Educação

PROGRAMA DE MEDIAÇÃO TECNOLÓGICA



Canal Educação

PROGRAMA DE MEDIAÇÃO TECNOLÓGICA



Canal Educação

PROGRAMA DE MEDIAÇÃO TECNOLÓGICA



Canal Educação

PROGRAMA DE MEDIAÇÃO TECNOLÓGICA