

**3ª
SÉRIE**

CANAL SEDUC-PI3



PROFESSOR (A):

**ADRIANO
RAMALHO**



DISCIPLINA:

GEOGRAFIA



AULA Nº:

**FORMAÇÃO TERRITORIAL
BRASILEIRA**



CONTEÚDO:



TEMA GERADOR:



DATA:

10/08/2020

ROTEIRO DE AULA

Reconhecer a formação territorial brasileira

Entender como foi ocupado o território brasileiro

Recursos :

Lousa digital

Vídeos


Imagens em ALFA

CROMA



FORMAÇÃO E ORGANIZAÇÃO DO TERRITÓRIO BRASILEIRO

Os primeiros núcleos urbanos surgiram no litoral em decorrência do modo de ocupação do território brasileiro.



BONDE ELÉTRICO COMEÇA A CIRCULAR NO CENTRO DO RIO

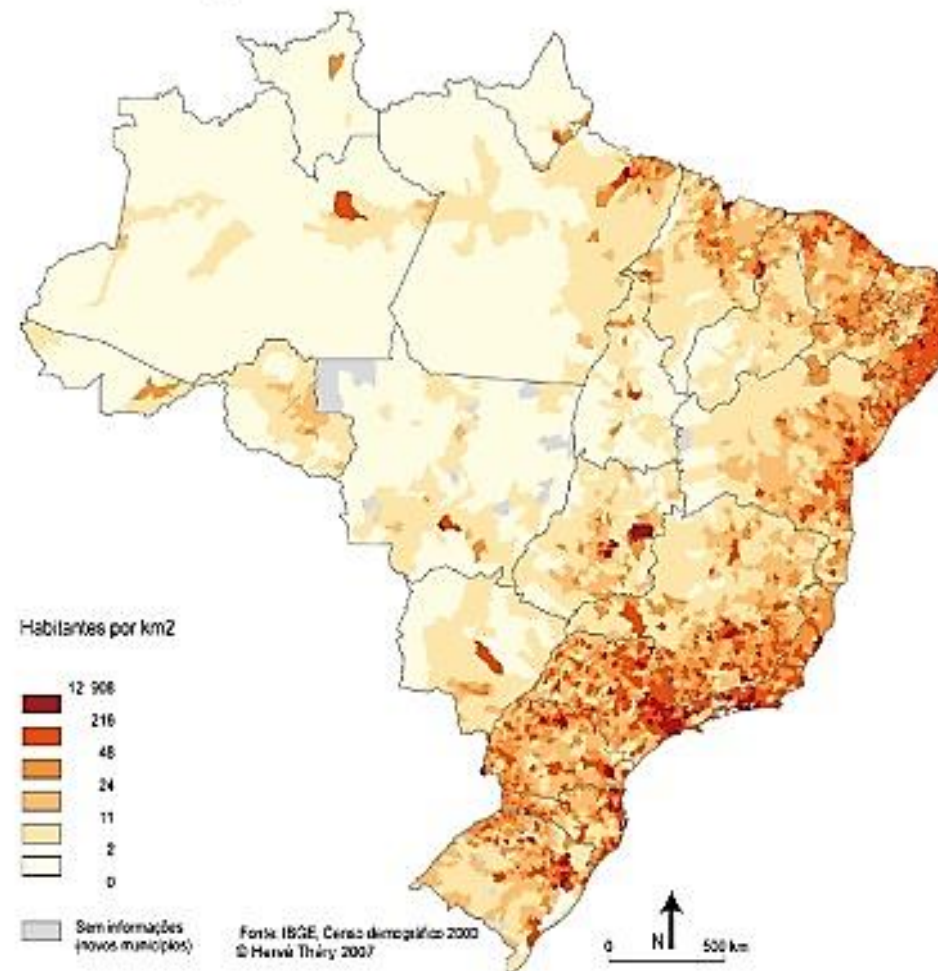


PONTE ESTAIADA SOBRE O RIO TIETÊ

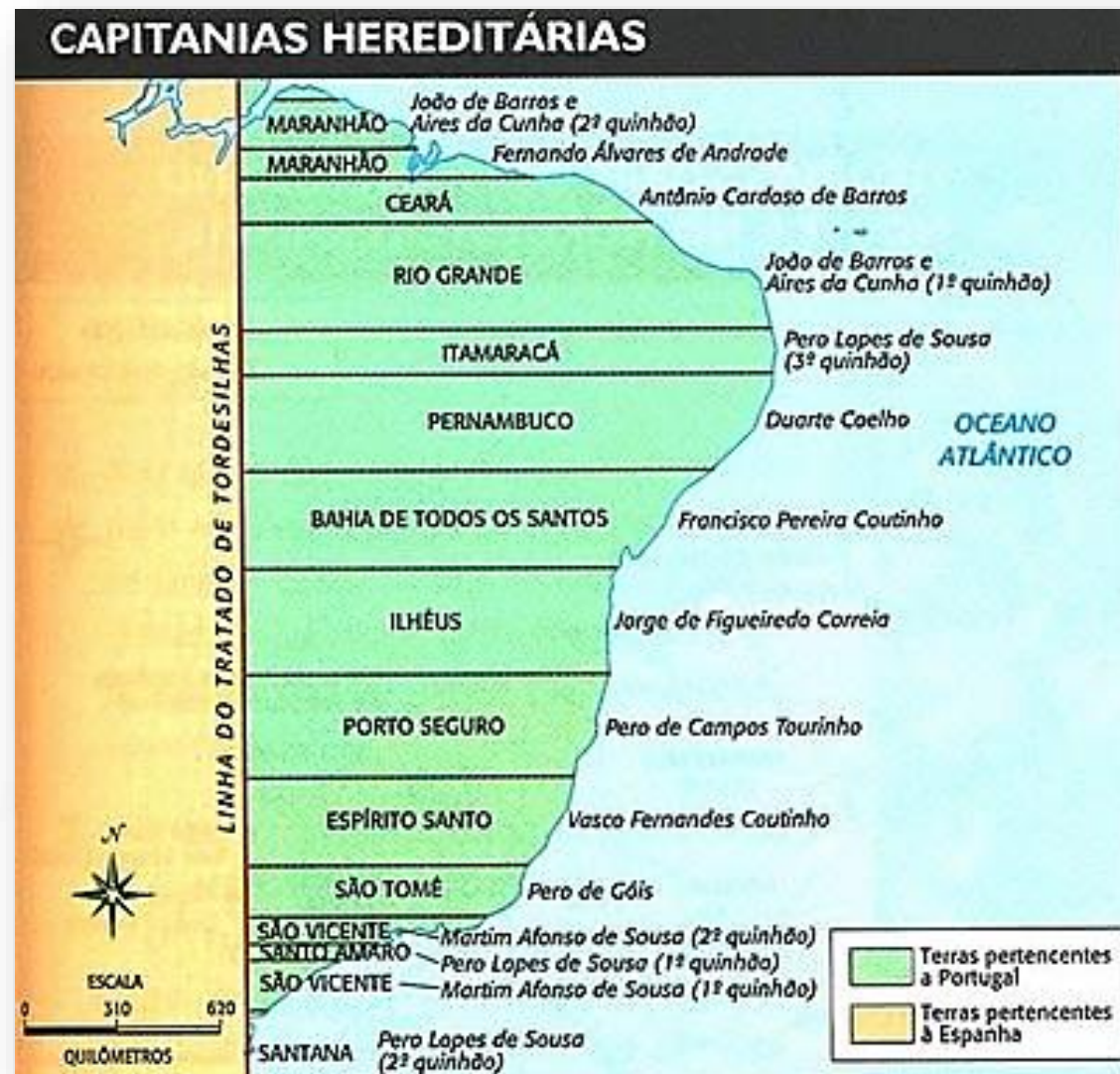


A população brasileira está irregularmente distribuída, pois grande parte da população habita na região litorânea, onde se encontram as maiores cidades do país.

Densidade de povoamento



Até o século XVI, o Brasil possuía apenas a área estabelecida pelo Tratado de Tordesilhas, assinado em 1494 por Portugal e Espanha. Esse tratado dividia as terras da América do Sul entre Portugal e Espanha.



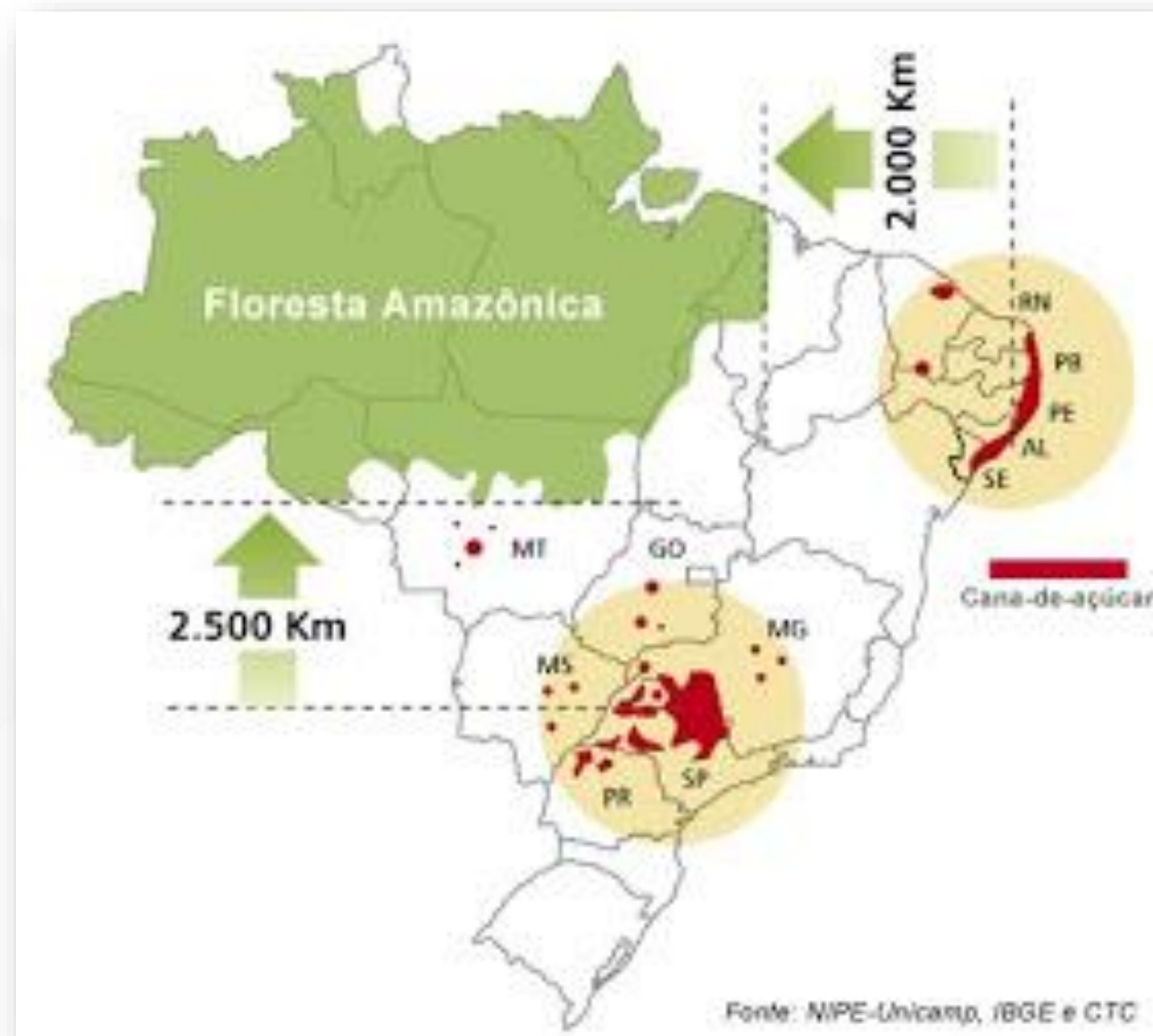


No século XVI

A ocupação limitava-se ao litoral, a principal atividade econômica desse período foi o cultivo de **CANA** para produzir o açúcar, as propriedades rurais eram grandes extensões de terra, cultivadas com força de trabalho escrava.



CANA DE AÇÚCAR















Século XVII e XVIII

Foram marcados pela produção pastoril que adentrou a oeste do país e também pela descoberta de jazidas de **OURO E DIAMANTE** nos estados de Goiás, Minas Gerais e Mato Grosso. Esse período foi chamado de aurífero e fez surgir várias cidades.



As empresas empregam pessoas locais, mas o Brasil não leva muita vantagem pois os impostos são baixos para estas empresas e elas têm controle da venda dos produtos extraídos em território nacional, ficando com o lucro das vendas e muitas vezes vendendo o produto extraído para os próprios brasileiros por um preço considerável.

Terra dourada

Mapa do ouro no país mostra que empresas estrangeiras detêm quase 100% do mercado brasileiro.



Fonte: Departamento Nacional de Produção Mineral (DNPM)

VALOR DO GRAMA DO OURO?



Século XIX

A atividade que contribuiu para o processo de urbanização foi a produção de **CAFÉ**, principalmente nos estados de São Paulo, Rio de Janeiro, Minas Gerais e Espírito Santo. Essa atividade também contribuiu para o surgimento de várias cidades.



Estados produtores

TIPOS DE CAFÉ



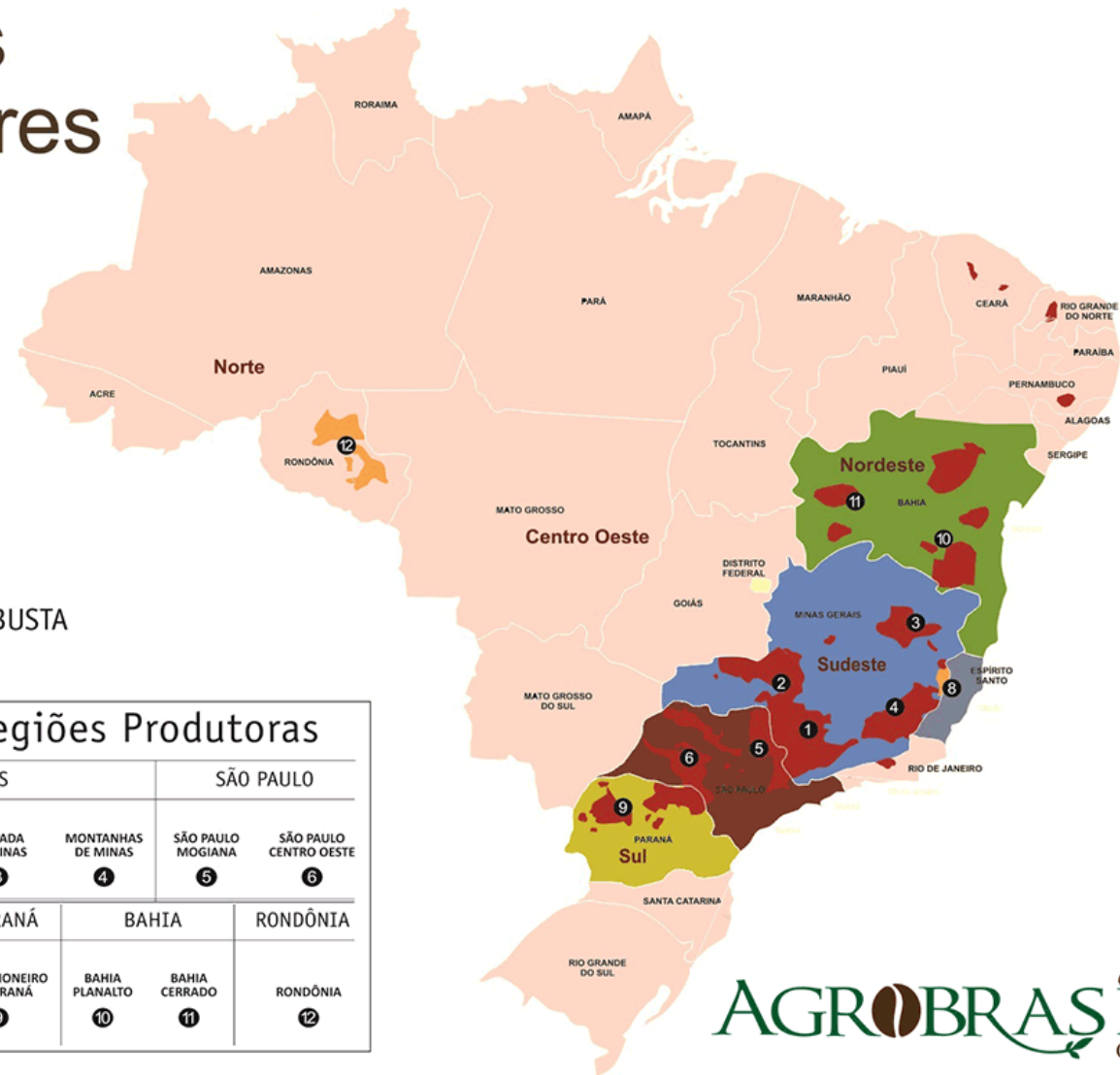
ARÁBICA



CONILON / ROBUSTA

Principais Regiões Produtoras

MINAS GERAIS				SÃO PAULO	
SUL DE MINAS 1	CERRADO 2	CHAPADA DE MINAS 3	MONTANHAS DE MINAS 4	SÃO PAULO MOGIANA 5	SÃO PAULO CENTRO OESTE 6
ESPÍRITO SANTO		PARANÁ	BAHIA		RONDÔNIA
MONTANHAS DO ESPÍRITO SANTO 7	CONILON CAPIXABA 8	NORTE PIONEIRO DO PARANÁ 9	BAHIA PLANALTO 10	BAHIA CERRADO 11	RONDÔNIA 12



AGROBRASIL
Coffee

PRODUÇÃO





Século XX

A **INDUSTRIALIZAÇÃO** brasileira no período militar (1964 – 1985) tivemos fortes investimentos: transporte, energia e comunicação formando um parque industrial.











Século XXI

Neoliberalismo com as privatizações onde ocorreu a venda das empresas estatais desestatização Globalização.

O campo começa a se modernizar cada vez mais e a produção de soja, trigo, arroz e milho se tornam muito importantes.

