

**2ª  
SÉRIE**

# CANAL SEDUC-PI2



PROFESSOR (A):

**ADRIANO  
RAMALHO**



DISCIPLINA:

**GEOGRAFIA**



AULA Nº:

**REVISÃO  
REGIÕES BRASILEIRAS**



CONTEÚDO:



TEMA GERADOR:



DATA:

**28/09/2020**

## ROTEIRO DE AULA

**#Reconhecer as regiões brasileiras**

**#Avaliar os ciclos econômicos de cada região do Brasil**

**Recursos :**

**Lousa digital**

**Vídeos**

**Imagens em alfa**

**Croma**



# COMPLEXOS GEOECONÔMICOS DO BRASIL



▶ Em 1967, o geógrafo Pedro Pinchas Geiger propôs a **divisão regional do Brasil** em três regiões geoeconômicas ou complexos regionais. Essa divisão tem por base as características histórico-econômicas do Brasil, ou seja, os aspectos da economia e da formação histórica e regional.

- ▶ 1: Região geoeconômica Amazônia
- ▶ 2: Região geoeconômica Centro-Sul,
- ▶ 3: Região geoeconômica Nordeste.



# REGIÕES BRASILEIRAS

A grande extensão territorial do Brasil proporciona possibilidades para a execução de várias atividades econômicas. Além da existência de riquezas minerais, a sua grande extensão territorial pode ser destinada à atividade agropecuária.

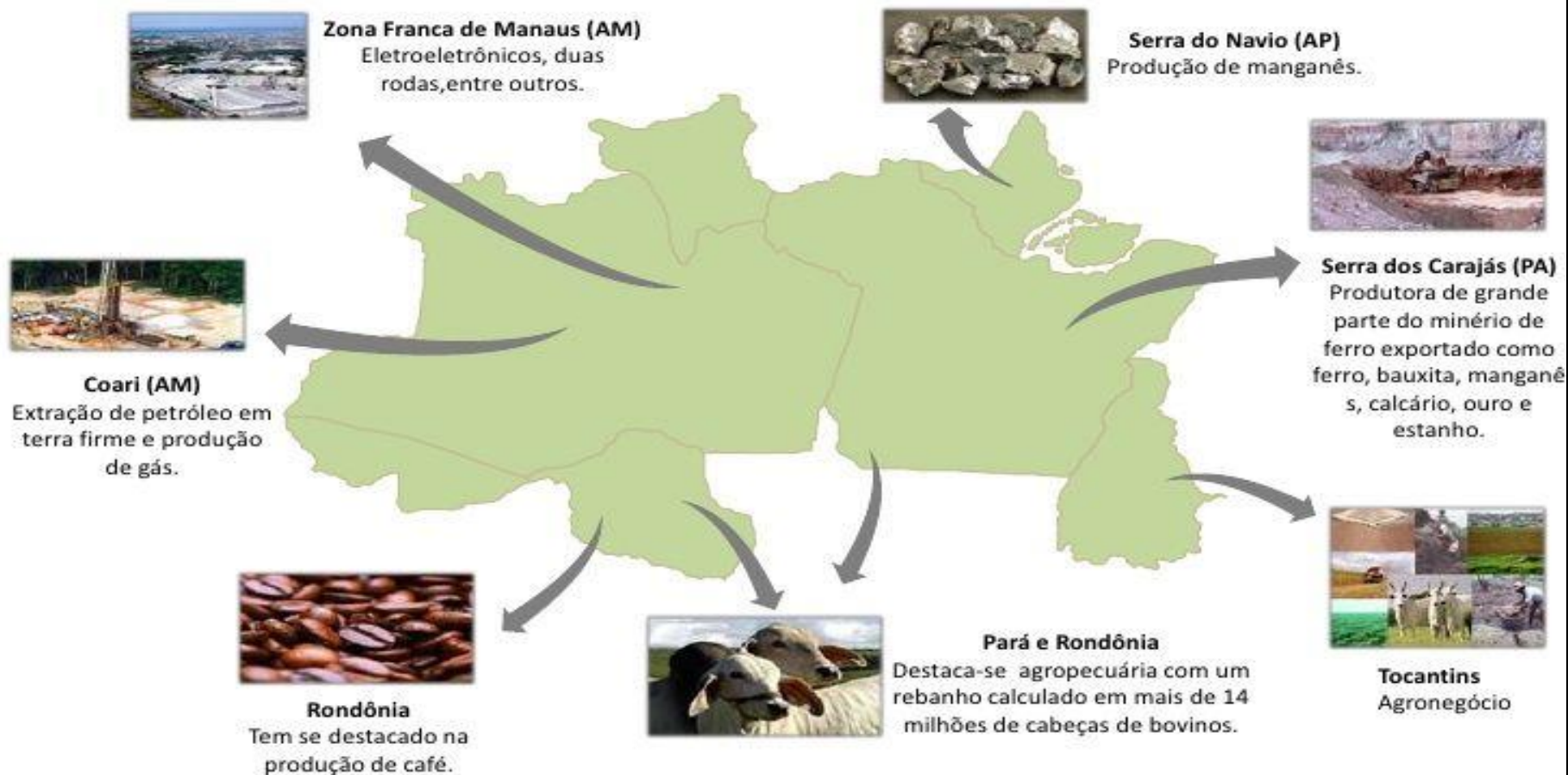


	1º	Produtor mundial de café, açúcar e laranja.
	1º	Exportador mundial de carne bovina e de aves.
	1º	Produtor de cana e açúcar e líder na exportação de açúcar e etanol.
	2º	Produtor mundial de soja.

Instituto de Logística  
e Supply Chain

## Economia da Região Norte

### *Principais produtos e atividades*





# Região Nordeste

A economia dessa região é bem diversificada, o turismo é muito forte, há uma grande presença de indústrias, agronegócio e exploração de petróleo. A cana-de-açúcar é o principal produto agrícola da região.



# Região Nordeste

Sub regiões do nordeste

01- Zona da Mata

02- Agreste

03- Sertão

04- Meio-Norte



# Zona da Mata



A **Zona da Mata** corresponde à orla oriental atlântica, que se estende do Rio Grande do Norte ao sul da Bahia.

Foi o primeiro espaço agrícola ser ocupado na região, em função da cultura da **cana-de-açúcar**, que encontrou na área condições naturais favoráveis à sua expansão, como o fértil solo argiloso de massapê e o clima tropical úmido, e, ainda hoje, é a mais importante cultura da região.

São importantes também nas produções de **cacau** do sul da Bahia, em Ilhéus e Itabuna.



# Zona da Mata





# AGRESTE

Constitui uma faixa paralela à costa entre a Zona da Mata e o Sertão (a leste do topo da chapada de Borborema) e trata-se de uma região menos úmida que a Zona da Mata.



# SERTÃO



**Sertão** é uma extensa área de clima semiárido, conhecido como “**Polígono das Secas**”. Compreende o centro da Região Nordeste, está presente em quase todos os estados.

Essa sub-região nordestina possui o **menor índice demográfico** da Região.

Os **índices de pluviosidade são baixos e irregulares**, com a ocorrência periódica de secas.


A principal atividade econômica é a **pecuária extensiva e de corte**.

A indústria baseia-se no **polo têxtil e de confecções**.

Políticas públicas são necessárias para o desenvolvimento socioeconômico no Sertão nordestino



# SERTÃO



**A VEGETAÇÃO TÍPICA É A CAATINGA.**



# MEIO NORTE




Nesta sub-região nordestina, que engloba os estados do Piauí e do Maranhão, destaca-se a cultura comercial do arroz, desenvolvida principalmente às margens dos rios Parnaíba e Mearim com destaque na atualidade para o plantio em larga escala de soja.





# MEIO NORTE





# REGIÃO CENTRO-OESTE

A Região Centro-Oeste, entre as cinco existentes, é a segunda maior do país. É constituída por três estados e o Distrito Federal, são eles:

- 01- Goiás (capital Goiânia)
- 02- Mato Grosso (Cuiabá)
- 03- Mato Grosso do Sul (Campo Grande)
- 04- Brasília (capital federal)

O Centro-Oeste ocupa uma área 1 606 372 km<sup>2</sup>, que supera em extensão a soma de todos os territórios da **ALEMANHA, ÁUSTRIA, BÉLGICA, DINAMARCA, GRÉCIA, HOLANDA, HUNGRIA, IRLANDA, NORUEGA, SUÍÇA E REINO UNIDO.**



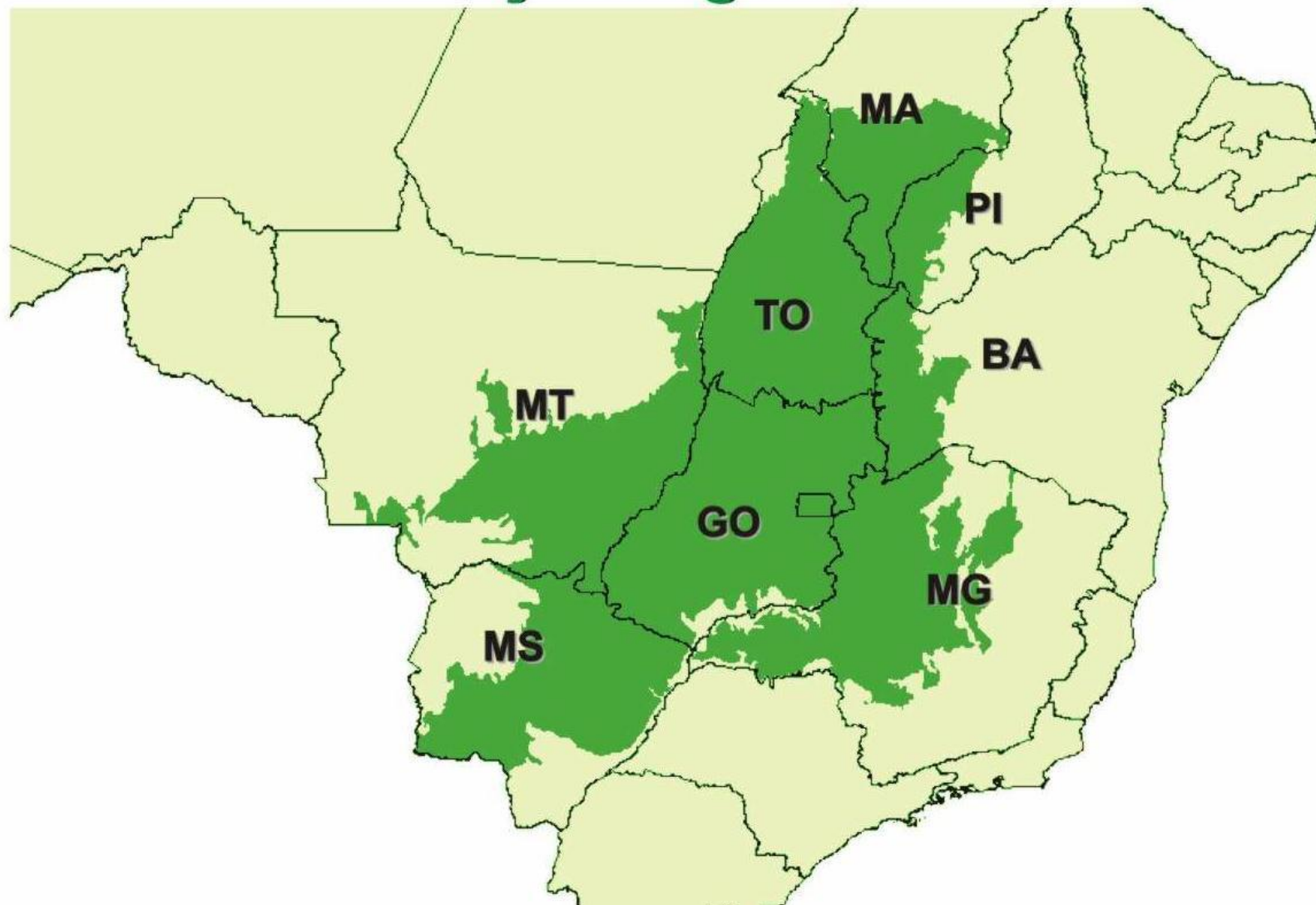
A Região Centro-Oeste é muito rica em diversidades naturais, nela são encontradas importantes características vegetais, sendo as principais: o Cerrado, o Pantanal e a floresta Amazônica.

Domínios que se destacam por serem considerados patrimônios naturais do Brasil.





## Área de distribuição original do Cerrado





O Centro-Oeste abrange ao mesmo tempo parte de duas regiões geoeconômicas, são elas: Amazônia e Centro-Sul. Quanto à localização, essa parte do Brasil é privilegiada, tendo em vista que se limita com todas as outras Regiões, além de fazer fronteira com Paraguai e Bolívia.

Atualmente, o Centro-Oeste é uma das Regiões que mais cresce no país, fato explicado por melhorias na agropecuária e desenvolvimento industrial, especialmente pelas agroindústrias instaladas.



# REGIÃO SUDESTE

A Região Sudeste é a principal região do país, sua importância está em seu destaque industrial e econômico, a densidade demográfica é de 87 habitantes por quilômetro quadrado, se consolidando como a mais populosa e povoada do país.

Conforme contagem populacional realizada em 2019 pelo Instituto Brasileiro de Geografia e Estatística (IBGE), a população total da Região Sudeste é de 87.714.410 habitantes.





## OS FATORES DA INDUSTRIALIZAÇÃO NO SUDESTE

O desenvolvimento industrial na região ocorreu principalmente a partir do século XX, após o declínio do café. O café ocupou durante muito tempo lugar de destaque nas exportações e essas “seguravam” a economia brasileira. Na Região Sudeste os estados produtores de café eram principalmente São Paulo, Rio de Janeiro e Espírito Santo.





## O SURGIMENTO DAS INDÚSTRIAS NA REGIÃO SUDESTE ESTÁ VINCULADO À PRODUÇÃO CAFEEIRA DECORRENTE DA:

01- Grande quantidade de **trabalhadores da produção do café** foi atraída para trabalhar nas indústrias que iniciavam suas atividades.

02- Rede de transportes, uma vez que as **infra-estruturas** eram usadas para escoar a produção de café das fazendas para os portos, com a introdução das indústrias esses mesmos trajetos serviam para transportar matéria prima e mercadorias.

03- Do grande número de **mão-de-obra imigrante** presente no Brasil, esses já tinham experiências industriais, pois a maioria era de origem europeia e nesse período a Europa já havia passado pelo processo de industrialização.

# REGIÃO SUL

O estado do Rio Grande do Sul está localizado na Região Sul do Brasil, é o maior e mais populoso da Região, e apresenta um dos pontos extremos do país, o arroio Chuí.

Os principais colonizadores do estado são os imigrantes italianos, que se fixaram principalmente na região serrana, no nordeste do estado; e os alemães, que ocuparam principalmente a região do vale do rio dos Sinos, ao norte de Porto Alegre. Os portugueses permaneceram na faixa litorânea do território gaúcho.





Sua população possui boa qualidade de vida, atualmente apresenta o quinto melhor Índice de Desenvolvimento Humano (IDH) entre os estados brasileiros, fatores como alto índice de alfabetização e baixas taxas de mortalidade infantil contribuem para esse resultado.



O clima é **Subtropical**, o relevo é caracterizado por planície litorânea com restinga e areia, planaltos a oeste e a noroeste e depressão no centro. O ponto mais elevado é a serra Geral, com 1.398 metros de altitude.





## PRATICANDO OS CONHECIMENTOS

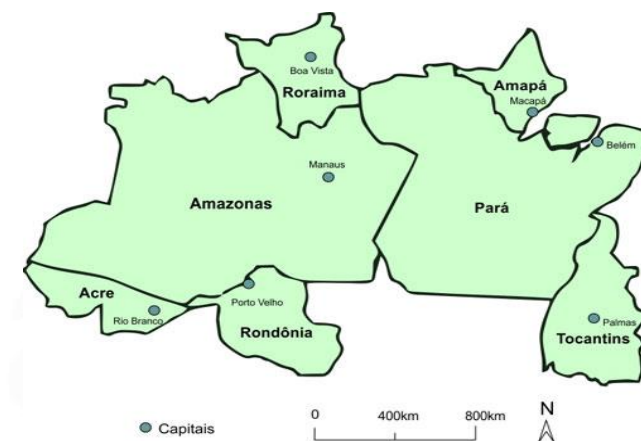
01- A Região Nordeste apresenta aspectos bem diferenciados no seu espaço geográfico, como...

**RESP: D**

- a) Agreste, zona localizada entre a Zona da Mata e o meio norte, que é uma área de transição com elevada densidade demográfica e grande urbanização.
- b) A Zona da Mata que apresenta devastação florestal, entretanto, o intenso reflorestamento impede a degradação da floresta original.
- c) O Sertão, área pobre, seca, tem baixas densidades demográficas, mas com intensa mecanização na agricultura, que é sua principal atividade.
- d) A faixa litorânea, área mais importante da região, onde estão os principais centros urbanos, aglomerados industriais e zonas portuárias.
- e) Meio-norte que engloba Maranhão e Piauí, área de latifúndios, pastagens naturais e intensa atividade agrícola.

02- Durante o século XIX, a região Norte vivenciou um grande crescimento populacional impulsionado, entre outros fatores, pelo:

- a) Ciclo do ouro
- b) Ciclo da cana-de-açúcar
- c) Ciclo da borracha
- d) Ciclo da madeira
- e) Ciclo da madeira



**RESP: C**



03- Julgue os itens a seguir destacando aquele que ~~não~~ corresponde às finalidades da Zona Franca de Manaus.

- a) Promover o desenvolvimento da região Norte se tornando o maior parque industrial do Brasil
- ~~b) Promover a integração da região Norte com o restante do país.~~
- c) Preservar a soberania nacional com a defesa na exploração mineral.
- d) Estimular a ocupação do território da região Norte e intensificar as ações de preservação ambiental.
- e) Promover o desenvolvimento apenas do estado Pará.

**RESP: B**

04- A Geografia da Região Sudeste: A expansão cafeeira no estado de São Paulo atingiu, por volta de 1900, pontos distantes a mais de 400km do porto de Santos. Esta interiorização tornou-se possível porque:

- a) o clima tropical de altitude favoreceu o plantio do café.
- b) o crescimento da demanda internacional permitiu o aumento da produção.
- c) o porto de Santos foi aparelhado para exportar grandes volumes de carga.
- d) a produção pôde ser transportada por ferrovias.
- e) o sistema de colonato incentivou a abertura de fazendas para o Norte e Oeste.

**RESP: D**



05- No Brasil, a agropecuária é um dos principais setores da economia, sendo uma das mais importantes atividades a impulsionar o crescimento do PIB nacional. Nesse contexto, o tipo de prática predominante é:

- a) a agricultura familiar, com elevado emprego de tecnologias.
- b) o agronegócio, com predomínio de latifúndios.
- c) a agricultura sustentável, com práticas extrativistas.
- d) a agricultura itinerante, com técnicas avançadas de cultivo
- e) a agricultura familiar, com elevado capital externo

**RESP: B**

06- A respeito da Região Centro-Oeste do Brasil, assinale o que for correto.

- a) A Região Centro-Oeste é composta pelos estados de Mato Grosso, Mato Grosso do Sul e também pelo Distrito Federal.
- b) O Distrito Federal situa-se no estado de Goiás, que é o menos populoso da Região Centro-Oeste.
- c) A Região Centro-Oeste tem o maior rebanho bovino do país e se destaca na agroindústria e no cultivo de algodão e soja.
- d) O Distrito Federal, que é composto por Brasília e várias cidades de Goiás, tem no setor de serviços o destaque da sua força de trabalho, da qual a maior parte é centrada na administração pública.
- e) Na Região Centro-Oeste situam-se quatro grandes chapadas: a Chapada dos Veadeiros, a Chapada dos Guimarães, a Chapada Diamantina e a Chapada do Araripe.

**RESP. C**



07- O Centro-Oeste brasileiro tem registrado, segundo vários estudos, elevada produtividade e rentabilidade nas lavouras agrícolas. Para entender tal dinâmica, os estudos sobre a sojicultura são exemplares, já que esse cultivo é implementado em alguns estados da região, como em Mato Grosso, com base na intensa utilização de insumos como fertilizantes e agrotóxicos, e de máquinas e implementos modernos.

Dentre as opções abaixo, assinale aquela que apresenta corretamente os impactos socioeconômicos e ambientais da expansão da sojicultura no Centro-Oeste.

- a) Valorização das terras, utilização intensiva de mão de obra migrante nordestina e desconcentração fundiária.
- b) Aumento da utilização da mão de obra barata do migrante nordestino e preservação do meio físico-biótico.
- c) Ampliação de novas dinâmicas socioeconômicas em todas as cidades regionais, a partir da diversificação das atividades geradas pela agricultura moderna.
- d) Alteração no meio físico-biótico, forte presença de agroindústrias e predominância de pequenas e médias propriedades.
- e) Valorização das terras favoráveis à mecanização, alterações no meio físico-biótico e (re)concentração fundiária.

**RESP. E**



## 08- Observe o mapa:

Temos a representação do espaço geográfico industrial brasileiro. O que se pode perceber, com a leitura do mapa, é:

- a) a dinâmica homogênea da industrialização brasileira.
- b) o peso que a Zona Franca de Manaus possui graças ao fato de ela, sozinha, ser equivalente a toda produção industrial do centro-sul do país.
- c) a herança histórica da concentração industrial ocorrida na região Sudeste do país.
- d) o elevado processo de devastação de áreas naturais para a construção de zonas industriais.
- e) que o Rio Grande do Sul é a Unidade Federativa mais industrializada do país.



# RESP. C

09- Em relação ao povoamento e à ocupação da terra na região Sul do Brasil, podemos afirmar:

- a) A região da encosta do Rio Grande do Sul, coberta por matas, foi ocupada por imigrantes alemães e italianos, estabelecidos em pequenas e médias propriedades policultoras.
- b) A campanha foi ocupada já no século XX pelos descendentes dos imigrantes alemães e italianos, que se dedicaram à pecuária extensiva em grandes propriedades.
- c) O norte do Paraná teve seu povoamento iniciado no século XIX por imigrantes oriundos do Nordeste para trabalharem nas grandes propriedades agrícolas dedicadas ao plantio da soja.
- d) O oeste de Santa Catarina é uma área de ocupação antiga, feita por luso-brasileiros, em áreas de floresta tropical, que se dedicaram ao cultivo do café em grandes propriedades.
- e) O planalto Paranaense foi ocupado, no século passado, por imigrantes japoneses, que se dedicaram à agricultura em grandes propriedades, cultivando principalmente cana-de-açúcar.

**RESP. A**